

今治明德高等学校

平成23年度 学力検査

社会問題 (矢田分校一般入試)

受検番号

*解答は、すべて別紙解答用紙の該当欄に記入しなさい。

① I・IIの各問いに答えなさい。

I 地図1, 2を見て、各問いに答えなさい。

(1) 地図1の特徴について正しく述べたものはどれですか。ア～エから1つ選び、記号を書きなさい。

ア 経線と緯線が直角に交わった地図で、航海図として利用されることが多い。

イ 面積が正しく描かれていて、国や地域などの面積の大きさがわかりやすい。

ウ 中心からの距離と方位が正しく表されており、中心からの最短コースを知るのに適している。

エ 面積・距離・方位・形などが正確に表されている。



地図1

(2) 地図1は正距方位図法を用いて東京を中心として描いた世界地図です。赤道にあたる線をa～dから1つ選び、記号を書きなさい。

(3) 地図1において、東京から最も遠い距離にある大陸は何大陸ですか。名称を書きなさい。

(4) 地図1について正しく述べたものはどれですか。ア～エから1つ選び、記号を書きなさい。

ア 東京から見て、エジプトは真西の方位にある。

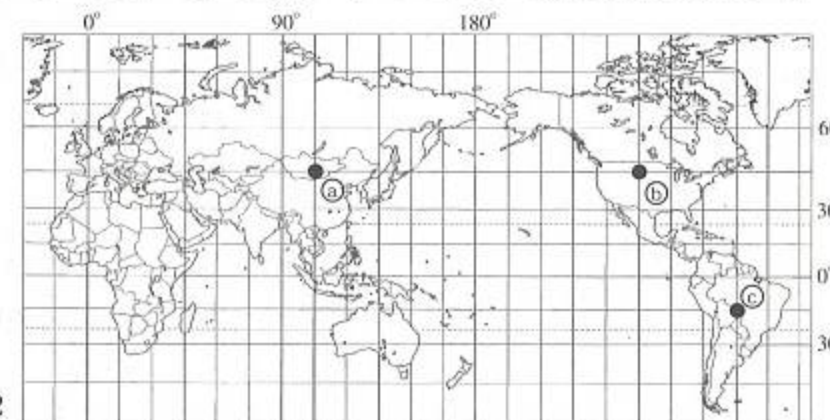
イ 東京から見て、ロサンゼルスは北東の方位にある。

ウ 東京からの距離は南アフリカ共和国よりシンガポールの方が遠い。

エ 東京から真東にある最初の大陸は北アメリカ大陸である。

(5) 地図2について、①の地点が5月4日午前8時のとき、②の地点は何月何日午前(午後)何時ですか。

(6) 地図2中の③の地点を緯度・経度を使って表しなさい。



地図2

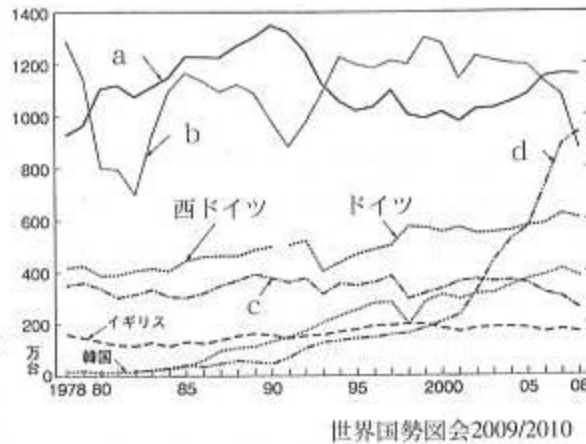
《選択問題》

II 次のA～Cの問題の中から1題を選択し、各問いに答えなさい。

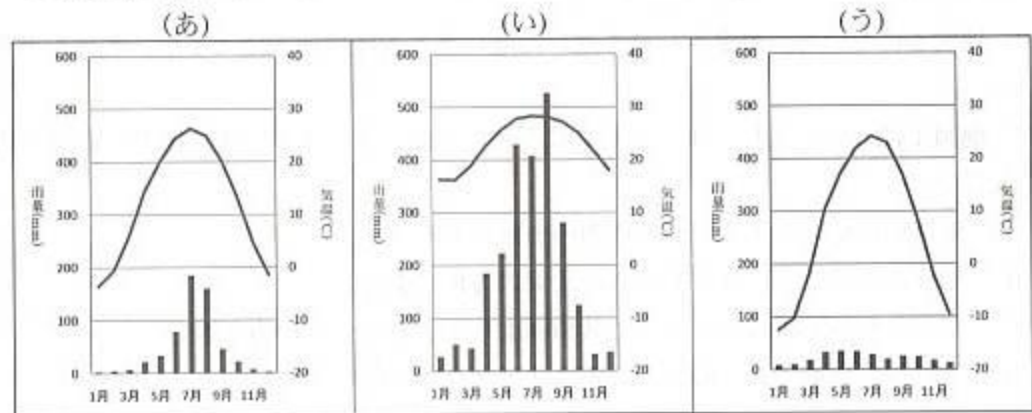
[解答欄には選んだ問題の記号A～Cを必ず書きなさい。]

A 中国について、各問いに答えなさい。

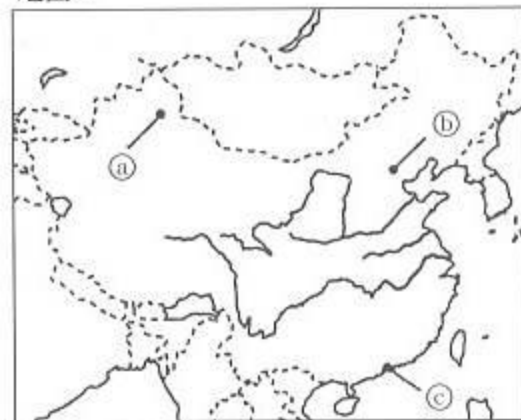
(1) 右のグラフa～dは、主要国（日本・フランス・アメリカ・中国）の自動車生産台数を表しています。中国にあたるものを、a～dから1つ選び、記号を書きなさい。



(2) 下のグラフは、地図1中の㉠～㉣の都市の雨温図です。それぞれの都市に合うグラフの組み合わせとして正しいものを、ア～カから1つ選び、記号を書きなさい。



地図1

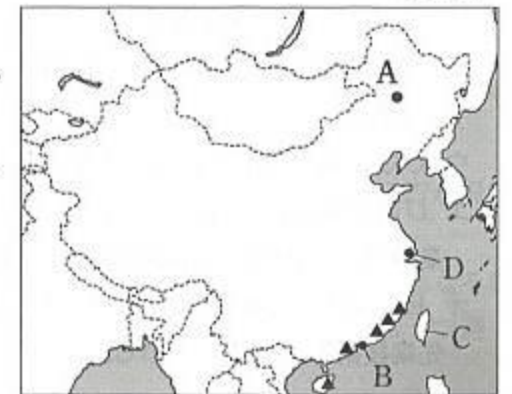


- ア (㉠:あ ㉡:う ㉢:い)
- イ (㉠:あ ㉡:い ㉢:う)
- ウ (㉠:い ㉡:う ㉢:あ)
- エ (㉠:う ㉡:あ ㉢:い)
- オ (㉠:い ㉡:あ ㉢:う)
- カ (㉠:う ㉡:い ㉢:あ)

(3) 地図2中の各都市について説明した文章のうち、適当でないものを、ア～オから1つ選び、記号を書きなさい。

- ア Aは中国最大の油田のターチン油田である。
- イ Bはかつてイギリスの植民地であったホンコンである。1997年に中国に返還された。
- ウ Cはナンキンとよばれ、水陸交通が発達し、かつていろいろな王朝の都がおかれた。
- エ Dは長江河口にある商工業都市で、中国最大の人口の都市シャンハイである。
- オ 地図中の▲印は外国企業の進出をうながすために設けられた経済特区である。

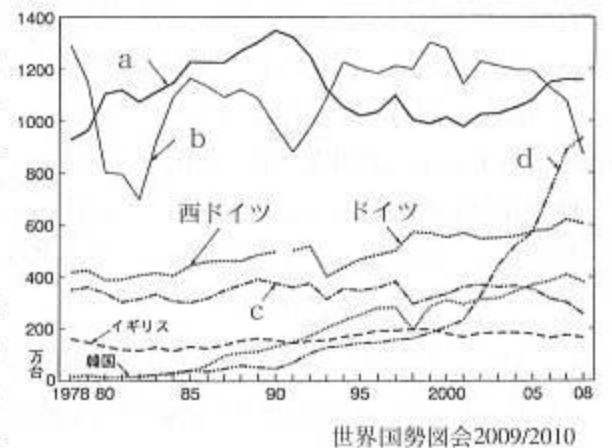
地図2



(4) 中国では天候不順による雨不足に加えて、経済の発展で水使用が急増したため水不足が大きな問題となっています。その対策のために洪水防止などの治水、発電を目的に、中国最大の川である長江に巨大なダムが建設されました。このダムの名前を書きなさい。

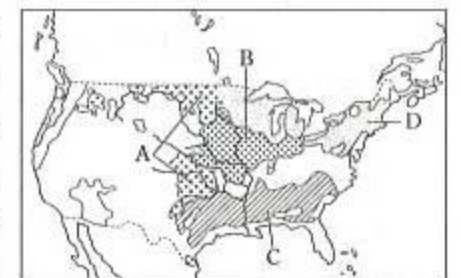
B アメリカ合衆国について、各問いに答えなさい。

(1) 右のグラフa～dは、主要国（日本・フランス・アメリカ・中国）の自動車生産台数を表しています。アメリカ合衆国にあたるものを、a～dから1つ選び、記号を書きなさい。



(2) 地図3中のA～Dの地域でおもに行われている農業や、栽培されているものの組み合わせとして正しいものを、ア～カから1つ選び、記号を書きなさい。

- ア (A:小麦 B:酪農 C:とうもろこし D:綿花)
- イ (A:小麦 B:とうもろこし C:綿花 D:酪農)
- ウ (A:とうもろこし B:小麦 C:酪農 D:綿花)
- エ (A:とうもろこし B:小麦 C:綿花 D:酪農)
- オ (A:酪農 B:小麦 C:とうもろこし D:綿花)
- カ (A:酪農 B:小麦 C:綿花 D:とうもろこし)

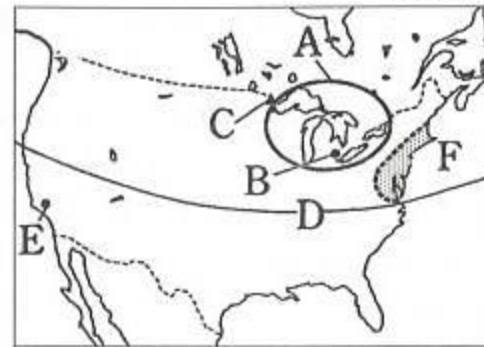


地図3

- (3) 地図4中の各都市や地域について説明した文章のうち、適当でないものを、ア～オから1つ選び、記号を書きなさい。

- ア Aは五大湖とよばれる大きな湖のある地域で、古くから工業が発達している。
 イ Bは自動車工業が発達した都市デトロイトである。
 ウ Cは石油の産出で有名なメサビである。
 エ Dの緯線より南はサンベルトとよばれる工業地域で、1970年代以降急激に発達した。
 オ Eはアメリカ第2の都市のロサンゼルスで先端技術等が発達している。

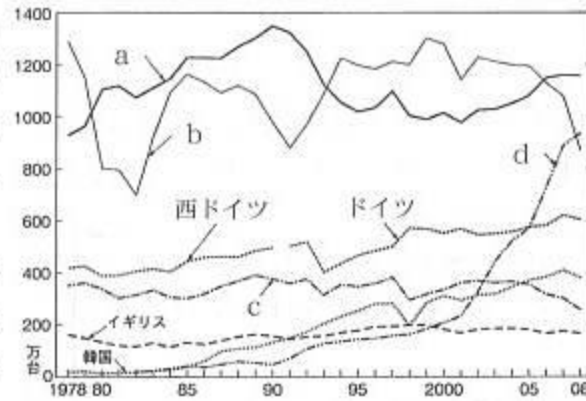
地図4



- (4) 地図4中のFの地域は、多くの大都市が深いつながりを持って帯状に連なっている地域です。この地域のことを何といいますか。

C ヨーロッパの国々について、各問いに答えなさい。

- (1) 右のグラフa～dは、主要国(日本・フランス・アメリカ・中国)の自動車生産台数を表しています。フランスにあたるものを、a～dから1つ選び、記号を書きなさい。
 (2) 次の①・②の説明文に適する国を地図5中のA～Fから選んだ組み合わせとして正しいものを、ア～カから1つ選び、記号を書きなさい。



世界国勢図会2009/2010

- ① 国土の4分の1をしめるポルダーとよばれる干拓地で野菜や草花を栽培する園芸農業や酪農がさかんである。
 ② 1990年に統一され、EUで最も工業が発達している。ルール工業地帯はスウェーデンの鉄鉱石や北海の油田などを利用して化学工業などが発達している。

- ア (①:D ②:E) イ (①:A ②:B)
 ウ (①:D ②:C) エ (①:C ②:A)
 オ (①:A ②:D) カ (①:C ②:E)

地図5



- (3) EU加盟国について、誤って述べている文を、ア～エから1つ選び、記号を書きなさい。

- ア EUの主要貿易相手国に関して、最大の貿易相手国は日本で、第2位はアメリカ、第3位はロシア、第4位は中国である。
 イ EUの域内では投資や出稼ぎ、通勤の自由などが認められている。
 ウ EUでは、通貨統合も進められており、1999年には単一通貨ユーロが導入され、2009年までにユーロ圏は16か国に広がっている。
 エ EUの加盟国は2007年にブルガリアとルーマニアが加盟したことにより27か国となった。

- (4) 地図5中の地点Xは日本と同じ気候帯に属していますが、日本の気候とは異なる特徴があります。Xの気候を説明した文として最も適当なものを、ア～エから1つ選び、記号を書きなさい。

- ア 一年を通して高温で降水量が多く、植物の種類も多い。
 イ 一年を通して偏西風の影響を受け、降水量や気温の変化が少ない。
 ウ 一年を通して温暖であるが、季節風の影響で夏に降水量が多い。
 エ 一年を通して高温であるが、雨季と乾季がはっきりしている。

② I・IIの各問いに答えなさい。

I 次の各問いに答えなさい。

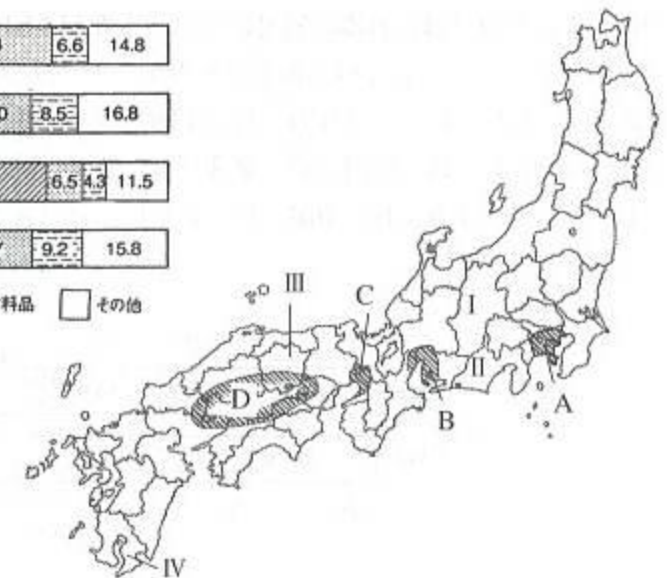
- (1) 下の略地図と表を見て、各問いに答えなさい。

- ① 略地図中のA～Dの地域は、日本のおもな工業地帯(地域)です。それぞれの工業地帯(地域)の産業別出荷額の割合として正しいものを、ア～エから1つ選び、記号を書きなさい。

ア	20.0%	36.2	22.4	6.6	14.8
イ	9.9%	50.8	14.0	8.5	16.8
ウ	10.4%	67.3	6.5	4.3	11.5
エ	21.3%	39.0	14.7	9.2	15.8

金属
 機械
 化学
 食料品
 その他

日本国勢図会2010/2011



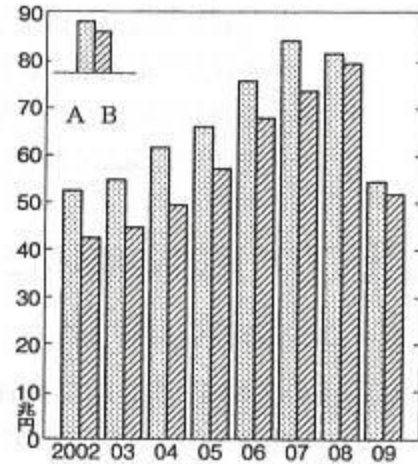
② 下の表は略地図のⅠ～Ⅳの都道府県の人口や各種の生産物の生産高です。ⅠとⅢにあたる都道府県をあ～えから1つずつ選び、記号を書きなさい。

	人口(人)	茶(t)	みかん(t)	ぶどう(t)	かんしょ(t)
あ	1717130	23400	18300	707	400400
い	1948196	143	1570	15700	4970
う	3799930	35800	115500	236	18200
え	2170691	38	—	29200	1960

県勢2010他

(2) 右のグラフは、わが国の貿易についての輸出入額の推移を表しています。次の各問いに答えなさい。

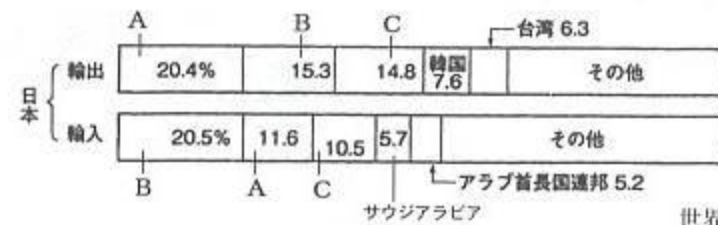
- ① グラフのうち、日本の輸入額にあたるのはA・Bのうちどちらですか。
- ② グラフの2009年度に、前年に比べて急激に輸出入額が減少した大きな理由を、ア～エから1つ選び、記号を書きなさい。
 ア 石油ショックによる世界的な不況
 イ 世界恐慌による世界的な不況
 ウ バブル経済の崩壊による不況
 エ 前年秋以降の世界同時不況



日本国勢図会2010/2011

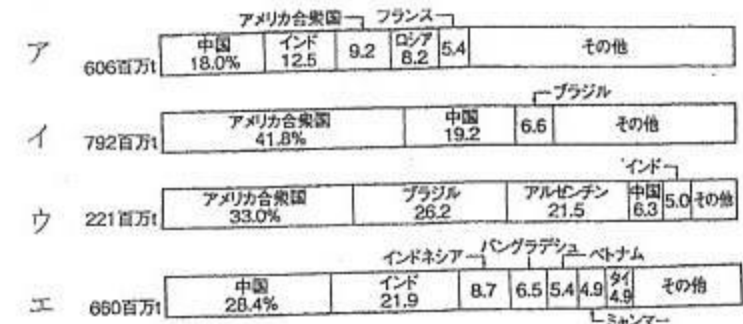
(3) 下のグラフは、日本の貿易における主要相手国です。A～Cにあてはまる国名の組み合わせとして正しいものをア～カから1つ選び、記号を書きなさい。

- ア (A:EU B:アメリカ C:中国) イ (A:アメリカ B:EU C:中国)
 ウ (A:EU B:中国 C:アメリカ) エ (A:中国 B:EU C:アメリカ)
 オ (A:アメリカ B:中国 C:EU) カ (A:中国 B:アメリカ C:EU)



世界国勢図会2009/2010

(4) 下のグラフは、世界の農産物生産に占める主要生産国の割合です。小麦にあたるものを、ア～エから1つ選び、記号を書きなさい。

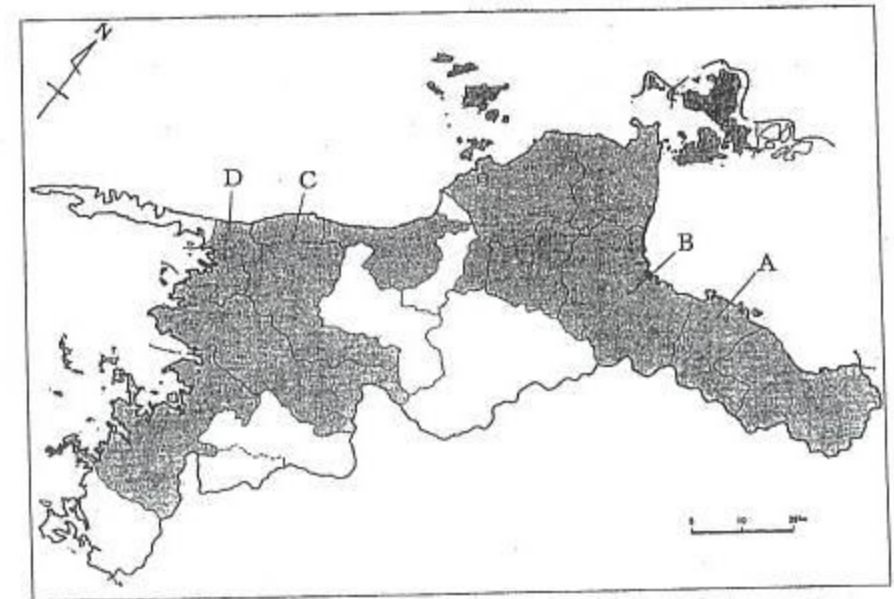


世界国勢図会2009/2010

II 愛媛県について次の各問いに答えなさい。

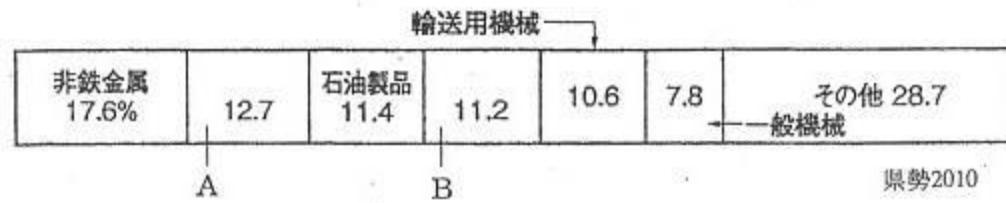
(1) 下の地図のA～Dの都市の組み合わせとして、正しいものを、ア～カから1つ選び、記号を書きなさい。

- ア (A:新居浜 B:西条 C:八幡浜 D:大洲)
 イ (A:新居浜 B:西条 C:大洲 D:八幡浜)
 ウ (A:西条 B:新居浜 C:八幡浜 D:大洲)
 エ (A:西条 B:新居浜 C:大洲 D:八幡浜)
 オ (A:四国中央 B:新居浜 C:八幡浜 D:大洲)
 カ (A:四国中央 B:新居浜 C:大洲 D:八幡浜)




(2) 下のグラフは、愛媛県の主要工業の種類別割合を表しています。A、Bにあてはまる工業の種類を、ア～オから1つずつ選び、記号を書きなさい。

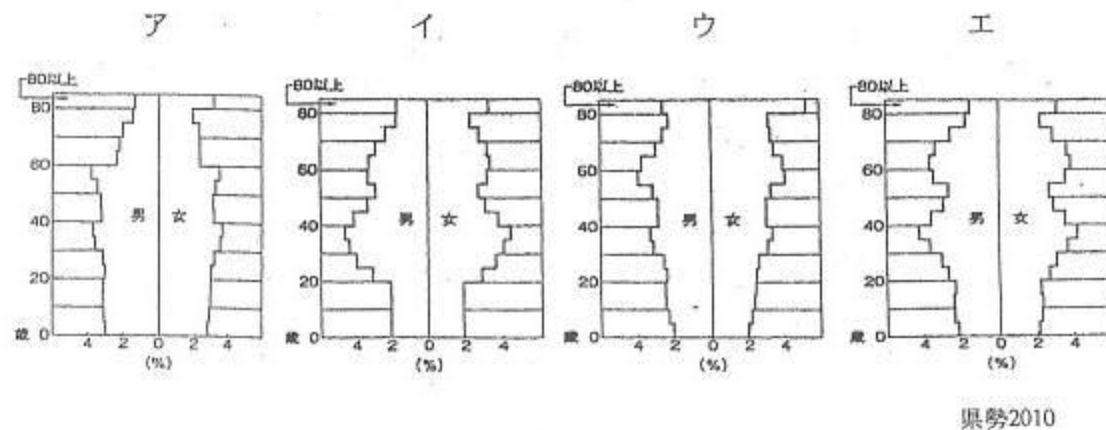
ア パルプ・紙 イ 電子部品 ウ 食料品 エ 鉄鋼 オ 化学



(3) 下のグラフは、四国4県の農業生産額に占める米、野菜、畜産などの割合です。愛媛県にあてはまるものを、ア～エから1つ選び、記号を書きなさい。



(4) 次の図は、ある都道府県の人口ピラミッド（年齢別人口構成図）です。愛媛県を示しているものを、ア～エから1つ選び、記号を書きなさい。（ただし、ア～エは愛媛県・東京都・沖縄県・大阪府のいずれかです。）



(5) 愛媛県について述べた文として適当でないものを、ア～カから1つ選び、記号を書きなさい。

ア 愛媛県は瀬戸内海に面しているため、古代から水上交通が発達していた。そのため、水産業関係や造船関係の産業も発達している。しかし、1988年の瀬戸大橋開通や1999年のしまなみ海道の開通によって本州と陸続きとなり、交通機関の利用形態は大きく変化した。

イ 愛媛県は地域の活性化をすすめるために、観光にも力を入れていて、観光客誘致にいろいろと工夫を凝らしている。特に松山市は司馬遼太郎の小説『坂の上の雲』の舞台となっており、ドラマがテレビで放映されたこともあり、関連の資料館やゆかりの地が名所となっている。

ウ 愛媛の名は、『古事記』の記述に「伊予の国を愛比売といひ……」とあり、それが転化して、現在の県名の「愛媛」となったとされている。

エ 愛媛県の主な農産物の生産量は、みかんが現在も全国1位、伊予柑が全国1位、キウイフルーツが全国1位、くりが全国3位、などで果樹栽培がさかんである。

オ 愛媛県には幕末までは八藩があった。明治維新となり、廃藩置県によって、最初は八藩がそのまま伊予八県となったが、すぐに松山県と宇和島県に統合されてその後、明治6年には愛媛県となった。

カ 愛媛県のシンボルとして、木は「まつ」、花は「みかんの花」、鳥は「コマドリ」が指定されている。

③ 次の略年表を見て、各問いに答えなさい。

世紀	日本のできごと
3世紀	邪馬台国の [1] が魏に使いを送る
6世紀	(a) 仏教が日本に伝わる
7世紀	(b) 聖徳太子が [2] を隋に送る
	↑ A
9世紀	菅原道真の建議で(c) 遣唐使を廃止する
	↑ B
12世紀	平清盛が日宋貿易のために兵庫の港を整備する
	↑ C
13世紀	(d) 元軍が襲来する
	↑ D
15世紀	[3] が日明貿易を始める
16世紀	キリスト教が日本に伝わる
	↑ E
17世紀	(e) 鎖国の体制が固まる
	↑ F
18世紀	田沼意次が蝦夷地開発をころもる
	↑ G
19世紀	外国船打払令が出される

(1) 空欄 [1] ~ [3] にあてはまる人物名を、それぞれ漢字で書きなさい。

(2) 下線部(a)について、ア~エの文章を時代の古い順に並べかえなさい。

ア 最澄や空海が、新しい仏教を日本に広めた。

イ 役人の心構えを示した十七条の憲法の中で、仏教を信仰することが定められた。

ウ 禅宗などの新しい仏教が、わかりやすく実行しやすいため、武士や民衆の間に広まった。

エ 聖武天皇は、仏教の力にたよって国を守ろうと、国ごとに国分寺と国分尼寺を建てた。

(3) 下線部(b)の聖徳太子が建てたものとして適当なものを、ア~エから1つ選び、記号を書きなさい。

ア 法隆寺



イ 正倉院



ウ 平等院鳳凰堂



エ 金閣



(4) 下線部(c)のあと、国風文化が栄えました。国風文化として適当なものを、ア~エから1つ選び、記号を書きなさい。

ア 日本書紀 イ 万葉集 ウ 古今和歌集 エ 新古今和歌集

(5) 下線部(d)に関する文として適当でないものを、ア~エから1つ選び、記号を書きなさい。

ア 元軍は、優れた火器を使用し、集団戦法で戦った。

イ 襲来時の元の皇帝はフビライで、日本の執権は北条時宗であった。

ウ 元軍には、元に征服された高麗の人々も含まれていた。

エ 元軍との戦いの後、多くの御家人は恩賞を手に入れた。

(6) 下線部(e)に関係のないものを、ア~エから1つ選び、記号を書きなさい。

ア 島原・天草一揆 イ 絵踏 ウ 石墨 エ 宗門改め

(7) 次の①~④のできごとがおこった時期を、年表中のA~Gからそれぞれ選び、記号を書きなさい。

① 長篠の戦いがおこる。

② 藤原道長が摂関政治を行う。

③ 永仁の徳政令が出される。

④ 松尾芭蕉が活躍する。

4 太郎さんは、近代から現代にかけての日本の動きについてカードにまとめてみた。このカードを見て、各問いに答えなさい。

A	江戸幕府にかわってできた(a)新政府では、近代国家を形成するために、(b)新しい教育制度や(c)新税制などが実施された。また、近代化をめざす開明政策により、欧米の文化がさかんに取り入れられることとなった。こうした改革は、人々の生活に大きな影響を与えた。
B	列強の仲間入りをした日本では、(d)日清戦争のころから(e)日露戦争にかけて、紡績・製糸などの軽工業が発展し、産業革命の時代をむかえていた。資本主義の発展により、生活がしだいに豊かになっていった人々もいたが、いっぽうでは、子どもを工場に出かせぎに出したり、副業を営んだりして、生計をおぎなっている人々もいた。
C	大正時代は、デモクラシーが唱えられ、自由主義の風潮が高まった時期であった。(f)第1次護憲運動や米騒動がおり、その後本格的な政党内閣が成立した。また、1925年に25歳以上の男子に選挙権をあたえる〔X〕法も成立した。
D	第二次世界大戦敗戦後の日本は、(g)戦後改革といわれる多くの改革を実行した。1946年には日本国憲法が公布され、国民主権・基本的人権の尊重・〔Y〕を三原理とする新しい憲法が生まれた。そして、1956年に日本は(h)国際連合に加盟し、国際社会に復帰することになった。

(1) カードAについて、①～③の各問いに答えなさい。

- ① 下線部(a)について、資料1は、1868年に新政府の方針として定められたものである。これを何とか書きなさい。

資料1

一 広ク会議ヲ興シ
万機公論ニ決スベシ
一 上下心ヲ一ニシテ
盛ニ経綸ヲ行フベシ

- ② 下線部(b)について、新政府は1872年に、6歳以上の男女すべてが小学校教育を受けることを定めた。この法令を何といいますか。漢字2字で書きなさい。

- ③ 下線部(c)について、1873年に地租改正が実施されたが、各地で地租改正反対の一揆がおきた。このため新政府は1877年に、それまで定めてあった地租の税率を引き下げた。地価の何%に引き下げましたか。ア～オから1つ選び、記号を書きなさい。

ア 2% イ 2.5% ウ 3% エ 3.5% オ 5%

(2) カードBについて、①～③の各問いに答えなさい。

- ① 下線部(d)について、1895年に日本と清の間で結ばれた条約によって、ある地域が清から日本にゆずりわたされた。しかし、三国干渉によって返還された。その地域を資料2中のア～エから1つ選び、記号を書きなさい。



- ② 下線部(e)について、1905年に日本とロシアの間で結ばれた条約の内容として適当でないものを、ア～エから1つ選び、記号を書きなさい。

ア 旅順・大連の租借権、長春以南の鉄道利権を日本にゆずりわたす。
イ 賠償金2億両を日本へ支払う。
ウ 北緯50度以南の樺太を日本へ割譲する。
エ 沿海州・カムチャツカ沿岸の日本の漁業権を認める。

- ③ 日清戦争から日露戦争までのできごととして適当でないものを、ア～エから1つ選び、記号を書きなさい。

ア 志賀潔が赤痢菌を発見する。
イ 八幡製鉄所が操業を開始する。
ウ 高峰譲吉がタカジアスターゼを創製する。
エ 小林多喜二が「蟹工船」を発表する。

(3) カードCについて、①～③の各問いに答えなさい。

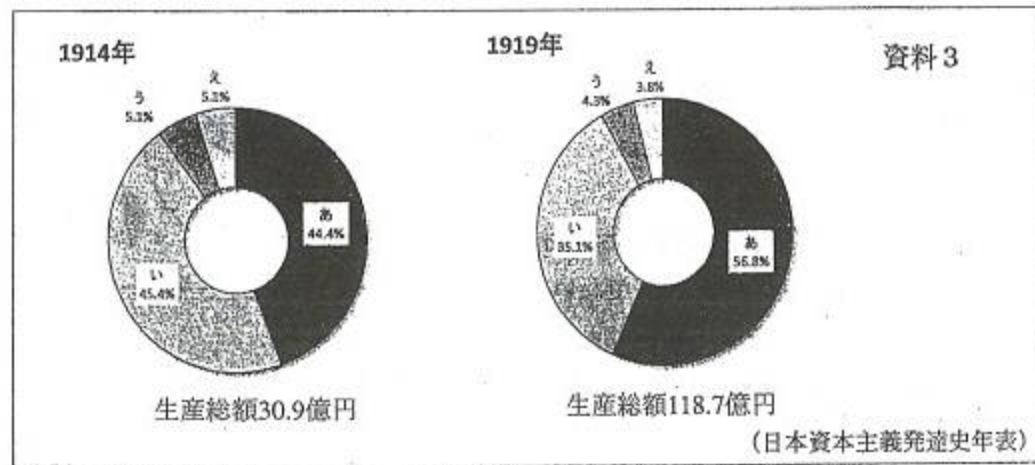
- ① 下線部(f)によって退陣した内閣総理大臣はだれですか。ア～エから1つ選び、記号を書きなさい。

ア 伊藤博文 イ 桂太郎 ウ 加藤高明 エ 原敬

- ② 文章中〔X〕に入る適当な語句を書きなさい。

③ この時代におこった第一次世界大戦によって、日本の経済は好景気をむかえた。資料3は、この時期の産業別総生産額の変化である。あ～えの組み合わせとして適当なものを、ア～エから1つ選び、記号を書きなさい。

- ア (あ：農業 い：工業 う：水産業 え：鉱業)
 イ (あ：農業 い：工業 う：鉱業 え：水産業)
 ウ (あ：工業 い：農業 う：水産業 え：鉱業)
 エ (あ：工業 い：農業 う：鉱業 え：水産業)



(4) カードDについて、①～③の各問いに答えなさい。

- ① 下線部(g)として適当でないものを、ア～エから1つ選び、記号を書きなさい。
 ア 財閥が解体される。
 イ 民営鉄道17社が国有化される。
 ウ 20歳以上のすべての男女に選挙権があたえられる。
 エ 農地改革が行われる。

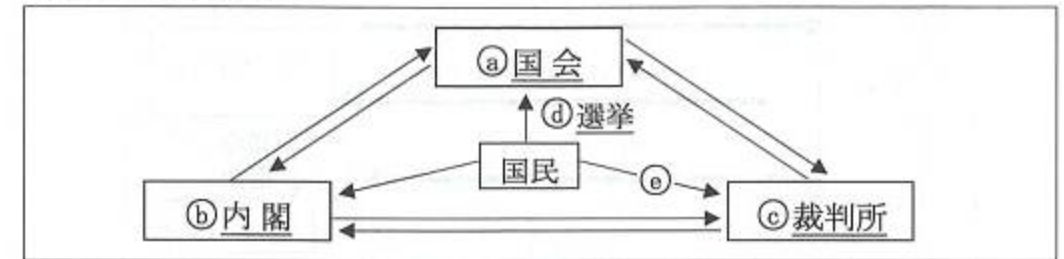
② 文章中 [Y] に入る適当な語句を書きなさい。

③ 下線部(h)について、日本が国際連合に加盟することになった大きな理由として適当なものを、ア～エから1つ選び、記号を書きなさい。

- ア 日ソ共同宣言が出され、ソ連の支持を得たから。
 イ 日韓基本条約を結び、韓国政府を合法的な政府として承認することで、連合国の支持を得たから。
 ウ 日米安全保障条約を結び、アメリカ軍の駐留を認め、アメリカの支持を得たから。
 エ 日中平和友好条約を結び、中国との国交を正常化し、中国の支持を得たから。

⑤ I・IIの各問いに答えなさい。

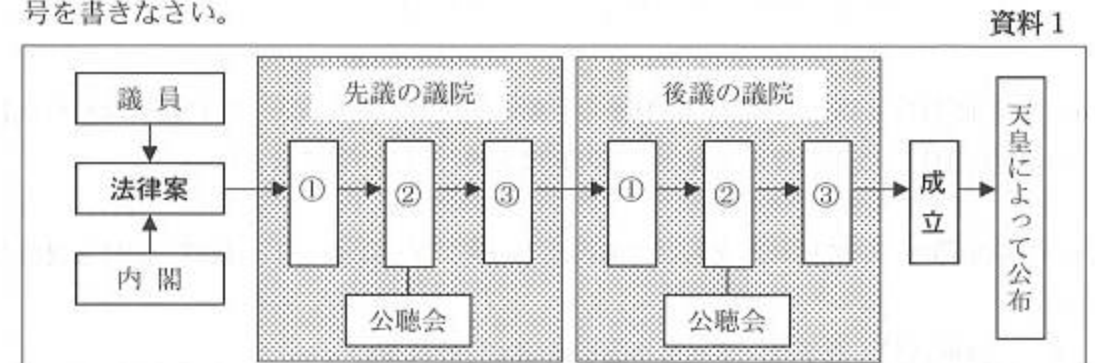
I 下の図は、日本の三権分立について示したものである。図を見て、各問いに答えなさい。



(1) 権力分立論は、18世紀にモンテスキューが『法の精神』で著したが、この考え方に影響を受けたものとして適当なものを、ア～エから1つ選び、記号を書きなさい。

- ア 世界人権宣言 イ マグナ=カルタ
 ウ 権利章典 エ アメリカ合衆国憲法

(2) 下線部①について、資料1は法律ができるまでの過程をおおまかに示したものである。資料1中の①・②・③の組み合わせとして適当なものを、ア～カから1つ選び、記号を書きなさい。



- ア (①：本会議 ②：委員会 ③：議長) イ (①：本会議 ②：議長 ③：委員会)
 ウ (①：議長 ②：委員会 ③：本会議) エ (①：議長 ②：本会議 ③：委員会)
 オ (①：委員会 ②：議長 ③：本会議) カ (①：委員会 ②：本会議 ③：議長)

(3) 下線部①について、日本国憲法では第41条に「国会は国権の最高機関であって、国の唯一の()機関である」と定めている。空欄に適する語句を漢字で書きなさい。

(4) 下線部②について、内閣の仕事として適当でないものを、ア～エから1つ選び、記号を書きなさい。

- ア 法律案や予算案をつくり、国会に提出すること。
 イ 憲法改正を発議すること。
 ウ 外交関係を処理し、外国と条約を結ぶこと。
 エ 天皇の国事行為に対する助言と承認をおこなうこと。

⑥ 次の図は、ある家電量販店のホームページの一部である。各問いに答えなさい。

④株式会社**明德電器**

店舗案内	各種サービス案内	⑥企業情報	各種活動	採用情報
------	----------	-------	------	------

おトクなトピックス

家電 ③エコポイント制度

革新のリフォーム提案
オール電化・④地球環境を考えた住宅用(A)発電

明德電器ギフトカード

圧倒的な品揃えを誇る次世代ストアが
装いも新たにパワーアップ!!

明德電器今治本店

特価で⑤家計も安心 ①WEBチラシを見る

9/20(月・祝日)
リニューアルOPEN!

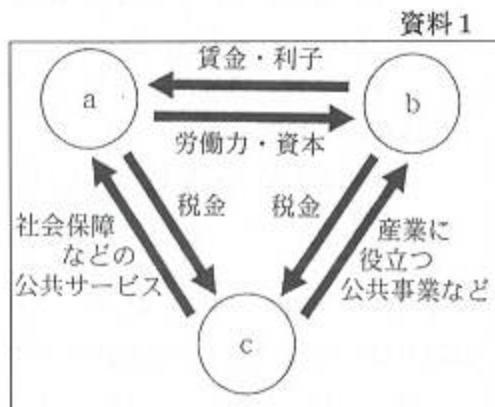
(1) 下線部④について述べた文として適当でないものを、ア～エから1つ選び、記号を書きなさい。

- ア 民間が経営する企業である私企業の一つで、代表的な会社形態である。
- イ 水道事業も、安価で、公共の利益のために活動している株式会社である。
- ウ 巨額の資金を調達するのに適しており、多数の人々から資金を集める方法をとっている。
- エ この会社の出資者は株主となり、持ち株数に応じて利益の配当を受ける。

(2) 下線部⑥に関して、各問いに答えなさい。

① 資料1は、国民経済の結びつきについて示したものである。図中のa～cにあてはまる語句の組み合わせとして適当なものを、ア～カから1つ選び、記号を書きなさい。

- ア (a:企業 b:家計 c:政府)
- イ (a:政府 b:家計 c:企業)
- ウ (a:家計 b:企業 c:政府)
- エ (a:家計 b:政府 c:企業)
- オ (a:企業 b:政府 c:家計)
- カ (a:政府 b:企業 c:家計)




② 資料2は、企業が公正で自由な競争を維持するため、また、市場経済の健全な発展と消費者の利益を守るために、ある政府機関が提供しているホームページの一部である。この政府機関の名称を書きなさい。

資料2



(3) 下線部③に関して、わが国では、環境にやさしい商品の購入の推進など、様々な形で環境を守るための活動に取り組んでいる。日本環境協会が環境保全に役立つ商品につけているエコマークとして最も適当なものを、ア～カから1つ選び、記号を書きなさい。



(4) 下線部④に関して、各問いに答えなさい。

① 地球環境問題に対して、1992年には、地球サミット(国連環境開発会議)が開催され、持続可能な開発に関する「リオ宣言」が採択された。この会議が開催された国を、a～eから1つ選び、記号を書きなさい。

- a アメリカ b ポルトガル c ベルギー d アルゼンチン e ブラジル

- ② (A) は、資料3で示すとおり、地球環境にやさしい自然エネルギーの一つで、家庭での発電も可能となったものである。(A) にあてはまる語句を書きなさい。

資料3



- (5) 下線部㊸に関して、次の家計の収入と支出について述べた文章について、(A)・(B) にあてはまる語句を、それぞれ漢字で書きなさい。

家計においては、私たちは、労働によって得た収入で商品を購入、支出することで生活を成り立たせている。

食料費や教育娯楽費など、日常生活のために使われる支出を(A)という。また、私たちは、病気や老後の生活などのために、将来への備えとして(B)をおこなっている。

- (6) 下線部㊹に関して、情報化社会は新しい時代を迎え、インターネットや携帯電話の進化により、身の回りのあらゆるものにコンピュータが組み込まれ、場所を問わずにコンピュータを使用できる時代が本格化しようとしている。このような社会を何というか。適当なものを、a～dから1つ選び、記号を書きなさい。

- a ユビキタス b マスメディア
c ユマニズム d インフォメーション・テクノロジー