

今治明德高等学校矢田分校






平成 24 年 度

社 会

注 意

- 1 問題は、1ページから6ページまであり、これとは別に解答用紙が1枚ある。
- 2 解答は、すべて別紙解答用紙の該当欄に書き入れること。

(一) 次のカードは、日本にある世界遺産について説明したものである。これらを見て、1～5の問いに答えなさい。

<p>カードA これは、京都府の宇治にある阿弥陀堂です。(a)藤原頼通によって建てられました。</p>	
<p>カードB これは、奥州の(①)を中心に栄えていた藤原氏によってつくられた阿弥陀堂です。奥州の藤原氏は、(X)や(Y)などの産物と、北方との交易によって栄えました。</p>	
<p>カードC これは、復元された首里城です。首里は、(b)15世紀はじめに尚氏によって建国された(c)琉球王国の中心として繁栄しました。</p>	
<p>カードD これは、白鷲城ともよばれる姫路城です。(d)城は、支配者の権威を示すもので、高くそびえる(②)がつくられるようになりました。建物内のふすまや屏風には、はなやかな(e)障壁画が描かれました。</p>	
<p>カードE これは、栃木県にある日光東照宮です。ここには、(f)徳川家康がまつられています。</p>	

- カードAについて答えよ。
 - カードAの建物の名称を書け。
 - (a)の一族は、どのようにして政治の権力を握ったか、きさき 子どもという言葉を用いて簡単に書け。
- カードBについて答えよ。
 - カードBの建物の名称を漢字で書け。
 - カードB中の(X)・(Y)に当てはまる産物の組み合わせとして適当なものを、ア～カから一つ選び、その記号を書け。
 ア { X 金 Y 馬 } イ { X 金 Y 海産物 }
 ウ { X 銀 Y 海産物 } エ { X 銀 Y 馬 }
 オ { X 金 Y 銀 } カ { X 馬 Y 海産物 }
 - (①)に当てはまる地名を書け。
- カードCについて答えよ。
 - (b)の頃のできごととして適当なものを、ア～エから一つ選び、その記号を書け。
 ア 足利義満が将軍となり、南北朝を統一した。
 イ コロンブスが大西洋を横断して、アメリカに到達した。
 ウ 勘合を用いる日明貿易が始まった。
 エ 武士と農民とが山城国一揆を起こし、自治を行った。
 - (c)に関する説明として適当でないものを、ア～エから一つ選び、その記号を書け。
 ア 黒砂糖が、琉球王国の代表的な特産品だった。
 イ 琉球王国は、江戸時代になると薩摩藩に滅ぼされた。
 ウ 琉球王国から伝わった楽器をもとに、三味線が作られた。
 エ 琉球王国は、東アジアから東南アジア海域の中継貿易で繁栄した。
- カードDについて答えよ。
 - (②)に当てはまる言葉を書け。

(2) 次の法令には、(d)に関する項目が含まれている。この法令の名前を漢字で書け。

- 一、武士は文武と弓馬の道をもつば心がけること。
 一、法度にそむく者は国内に隠しておいてはいけない。
 一、諸国の城は、補修するといっても必ず届け出ること。まして城の新築は絶対にしてはならない。
 一、隣国において先例のない新しくわだてや仲間を集めたりするものがあれば、すみやかに届け出ること。

(3) (e)について、大阪城や安土城などに障壁画を残した人物を、ア～エから一つ選び、その記号を書け。

- ア 鈴木春信 イ 黒田清輝 ウ 菱川師宣 エ 狩野永徳

5 カードEについて、(f)が開いた江戸幕府に関する説明として適当なものを、ア～エから一つ選び、その記号を書け。

- ア 江戸幕府では、将軍の下で老中が政治の運営に当たり、町奉行などの三奉行が政務を担当した。これらの役職には外様大名が任命された。
 イ 徳川家康は、禁中並公家諸法度や、参勤交代の制度を定めた。
 ウ 江戸時代の農民は、五人組という制度により、犯罪の防止や年貢の納入に連帯責任を負った。
 エ 徳川吉宗が行った享保の改革では、大名の参勤交代の制度を一時ゆるめるかわりに年貢の率を引き上げた。

(二) 右の略年表を見て、1～8の問いに答えなさい。

1 略年表中Aにより、朝廷は江戸幕府から天皇中心の政治に戻すことを宣言した。Aに当てはまる言葉を書け。

2 略年表中①の期間に起こったできごととして適当なものを、ア～エから二つ選び、年代の古い順にその記号を書け。

- ア 徴兵令の実施 イ 戊辰戦争が始まる
 ウ 領事裁判権の撤廃 エ 西南戦争が始まる

3 略年表中②について、各問いに答えよ。

(1) 日露戦争の講和会議は、Xの仲介で開かれ、Yが締結された。Xの国名とYの条約名をそれぞれ書け。

(2) [資料1]の人物は、社会主義の立場から日露戦争開戦に反対した人物である。この人物の氏名を書け。

(3) [資料1]の人物は、後に天皇暗殺をくわだてたとして、逮捕、処刑された(大逆事件)。この事件の同年に起こったできごととして適当なものを、ア～エから一つ選び、その記号を書け。

- ア 韓国併合 イ 五・四運動 ウ 三・一独立運動 エ 中華民国建国

4 略年表中③が結成された年のできごととして適当でないものを、ア～エから一つ選び、その記号を書け。

- ア シベリア撤兵の完了 イ 日本農民組合の結成
 ウ ロンドン海軍軍縮条約の調印 エ 日本共産党の結成

5 略年表中④は、陸軍の青年将校らが首相官邸などを襲撃した事件である。この事件は、その後の我が国にどのような影響を与えたか簡単に説明せよ。ただし、政治、軍部、拡張という言葉を使うこと。

6 右の[資料2]は略年表中Bの調印式の様子を写したものである。この条約により日本は独立を回復した。Bに当てはまる条約名を書け。

7 右の[資料3]は日本の戦後経済復興の様子を表したグラフである。Zの期間に日本の生産力が大幅に回復しているが、この要因となった東アジアで起きたできごとは何か、書け。

8 略年表中⑤により、日本は[]に加盟し、国際社会に復帰した。[]に当てはまる国際機関の名称を、漢字四字で書け。

年代	できごと
	Aが発表される
1870	五箇条の御誓文を公布する……
1890	第一回帝国議会が開かれる……
1910	②日露戦争が起こる
1930	③全国水平社結成
1950	④二・二六事件が起こる
	Bを結ぶ
	⑤日ソ国交回復

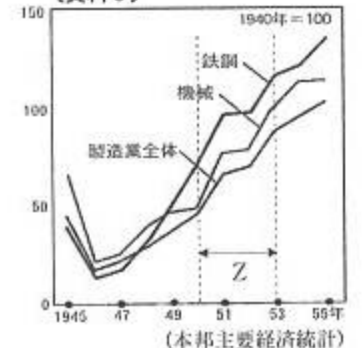
[資料1]



[資料2]



[資料3]



(三) 次の文は、中学3年生のあるクラスで、公民の授業のまとめとして、先生がクラスの生徒に話した内容の一部である。これを読んで、1～6の問いに答えなさい。

公民の授業で学んだことを思い出してみましょう。
 まず、基本的人権の学習をとおして権利と義務の関係を理解しました。その中で、①新しい人権として、憲法には定められていませんが、法律や地方公共団体の条例に規定されているものもありましたね。
 次に、わが国の政治の仕組みについて学習しました。三権分立で、②国会・③内閣・裁判所の三つの機関について学び、それぞれの機関が他の機関のはたらきをチェックしたり、たがいに力をおさえる権限をもっていることを知りましたね。④地方自治では、「民主主義の学校」とよばれていることにふれ、地方公共団体の政治に積極的にかかわり、運営していくことが、民主主義国家をつくりあげる何よりの訓練と経験の場になるということを説明しましたね。⑤選挙については、国政選挙について2009年の政権交代を例に挙げ、国民の政治参加にとって大切な機会であることを学びましたね。
 また、世界平和に向けた国際的な課題として、テロや戦争、地球規模の環境問題について、新聞記事を題材にした授業や、インターネットを使った調べ学習を行い、解決方法についても考えました。こうした問題については、⑥主権国家間相互の尊重や、協力が今後さらに重要になってきますね。
 皆さんには、国内の出来事だけにとらわれず、国外の出来事にも関心を持ち続け、社会の一員として、どのように貢献できるかを常に考えていってほしいと思います。

- ①について、自己決定権の1つで、医師から治療や投薬についての十分な説明を受けた後、患者がその医療行為に同意することを何というか、書け。
- ②について、国会において、衆議院の優越が認められていないものを、ア～エから一つ選び、その記号を書け。
 ア 内閣総理大臣の指名 イ 憲法改正の発議 ウ 予算の議決 エ 条約の承認
- ③について、近年は、複数の政党が協力して与党をつくり、政権を担当している。このような政権を何というか、書け。

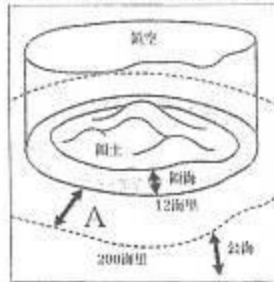
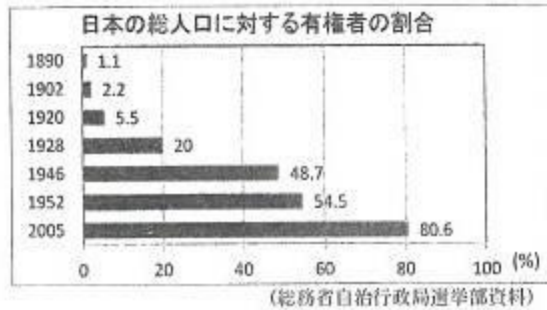
(単位：億円) (県勢2010)

- ④について、右の表は、2007年度の東京都と愛媛県の歳入総額とその内訳を表したものである。内訳①～③の組み合わせとして適当なものを、ア～エから一つ選び、その記号を書け。

	総額	①	②	③	その他
東京都	71436	54973	0	1573	14890
愛媛県	5998	1697	1705	761	1835

- ア { ①地方債 ②地方税 ③地方交付税 }
 イ { ①地方債 ②地方交付税 ③地方税 }
 ウ { ①地方税 ②地方債 ③地方交付税 }
 エ { ①地方税 ②地方交付税 ③地方債 }

- ⑤について、右のグラフは、年代別の日本の総人口に対する有権者の割合を表したものである。このグラフを見ると、1946年に有権者の割合が大幅に増加したことがわかる。その理由は、1925年の普通選挙法では、25歳以上の男子にのみ選挙権が認められていたが、1945年の新選挙法では、に選挙権が与えられたためである。に適切な言葉を書き入れて文を完成させよ。

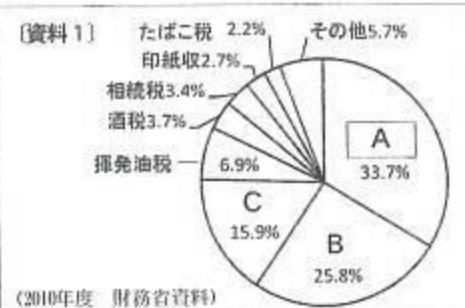


- ⑥について、右の図は、国際法でいう国家の主権がおよぶ範囲について模式的に表したものである。図中のAの水域を何というか、書け。

(四) 次の1～4の問いに答えなさい。

- 太郎さんは、ある授業で先生から次のような説明を受けた。先生の説明を読んで、(1)、(2)の問いに答えよ。

〔資料1〕を見てください。〔資料1〕は、国税の内訳を示しています。政府は、この租税などの財政収入を基に経済活動を行います。財政支出は、さまざまなことに使われますが、景気の変動を調整し、経済を安定させるためにも使われるのです。



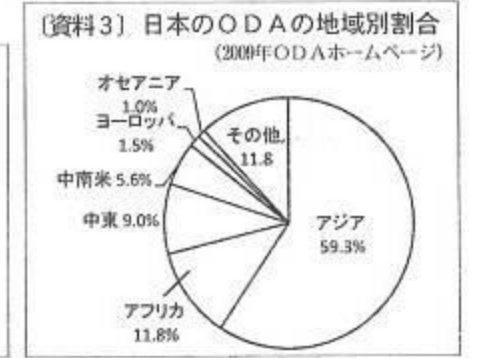

- (1) 〔資料1〕中のAに入る税は、次の3つの条件を満たすものである。Aに当てはまるものを、ア～エから一つ選び、その記号を書け。

- (条件)
- ・納税先は国である。
 - ・税を負担する者と納める者が同じである。
 - ・累進課税制度がとられている。

- ア 法人税 イ 相続税
 ウ 自動車税 エ 所得税

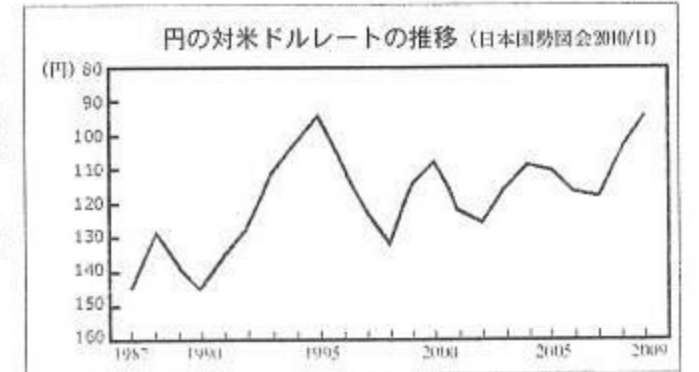
- (2) 下線部について、政府が債券を発行するなどして、市場から調達した資金を、公団、地方公共団体などに貸し出したり、投資したりすることを何というか。

- 2 下の〔資料2〕、〔資料3〕は、ODAに関連したものである。〔資料2〕、〔資料3〕から読みとれることを述べた文として適当なものを、ア～エから一つ選び、その記号を書け。



- ア 2009年の日本のODA総額が、開発援助委員会加盟国全体に占める割合は、アメリカやドイツなどに続き、第5位であり、日本の二国間ODA実績はアフリカが最も多い。
 イ 開発援助委員会加盟国中で、2009年のODA総額が1999年に比べて増加している国は、日本やアメリカなどの5カ国であり、日本の二国間ODA実績は、どの地域にも均等になっている。
 ウ 2009年の日本のODA総額は、1999年と比較すると減少しており、2009年における日本の二国間ODA実績は、アジアが半分以上を占めている。
 エ 2009年の日本のODA総額は、アメリカの半分以下であり、2009年における日本の二国間ODA実績は、中東が第2位の割合を占めている。

- 3 右の資料は、円とドルの為替相場の推移である。この資料を見てみると、1987年から2009年にかけて大きな波はあるが、円高傾向にある。円高になると輸出業者と輸入業者にはどのような影響があるか。それぞれ、輸出業者は...輸入業者は...の書き出しに続き、文章を書け。



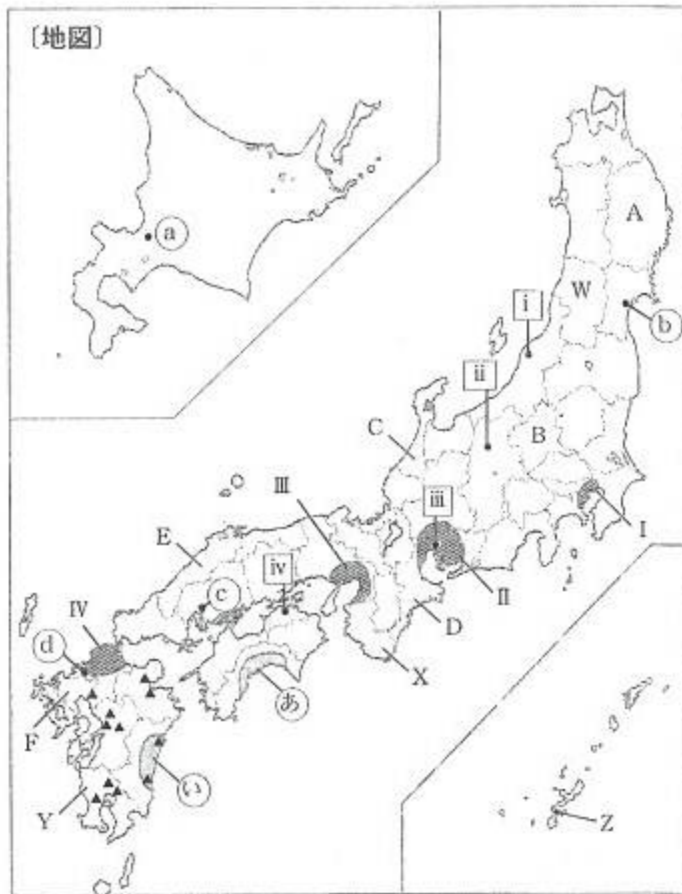
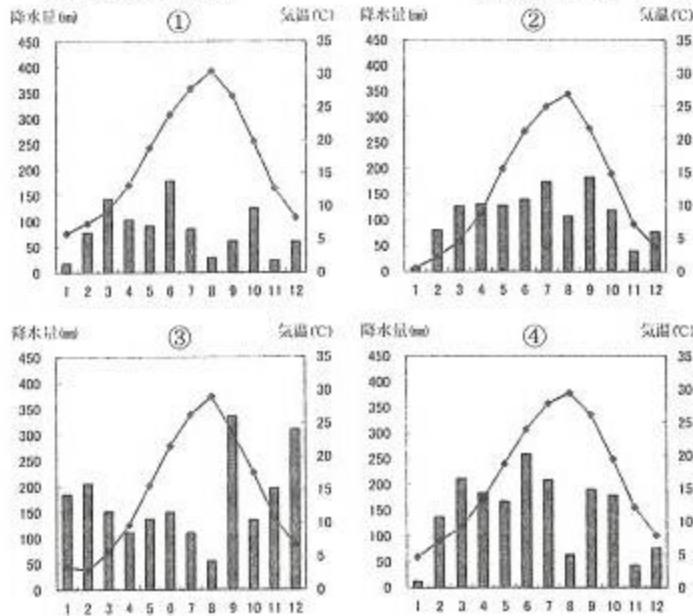
- 4 次の文を読み、文中のa～dに入る言葉の組み合わせとして適当なものを、ア～コから一つ選び、その記号を書け。

現在、世界の各地で近隣諸国間の経済や軍事を中心とした地域的な協力関係が生まれている。ヨーロッパでは、1993年にaが発足し、多くの国が加盟した。1999年には通貨がユーロに統一され、経済面ではひとつの市場として機能している。軍事面ではアメリカと協調してbとしてまとめ、ヨーロッパ全土の平和と安全を確保しようとしている。アジアではcが政治経済の分野で協力を進め、APECも毎年首脳会議を開いてアジア太平洋地域の協力を進めている。また、北アメリカではdという形で、アメリカ、カナダ、メキシコが経済協力関係を結んでいる。

- ア { a EU b NAFTA c ASEAN d NATO } イ { a EC b NATO c ASEAN d NAFTA }
 ウ { a AU b NATO c ASEAN d NAFTA } エ { a EC b NAFTA c NATO d ASEAN }
 オ { a EU b NATO c ASEAN d NAFTA } カ { a EC b ASEAN c NAFTA d NATO }
 キ { a EU b NATO c NAFTA d ASEAN } ク { a AU b NATO c NAFTA d ASEAN }
 ケ { a EC b NAFTA c ASEAN d NATO } コ { a EC b ASEAN c NATO d NAFTA }

(五) 右の〔地図〕を見て、1～8の問いに答えなさい。

1 下のグラフは、〔地図〕中ⅰ～ⅳの都市の雨温図(各月の降水量及び平均気温を1枚に表した図)である。ⅰ～ⅳの都市と①～④の雨温図の組み合わせとして適当なものを、ア～クから一つ選び、その記号を書け。



- ア {① i ② ii ③ iii ④ iv} イ {① i ② ii ③ iv ④ iii} ウ {① ii ② iv ③ iii ④ i}
 エ {① ii ② iv ③ i ④ iii} オ {① iii ② ii ③ i ④ iv} カ {① iii ② iv ③ i ④ ii}
 キ {① iv ② ii ③ i ④ iii} ク {① iv ② ii ③ iii ④ i}

2 〔地図〕中のA～Fの都道府県のうち、都道府県名と都道府県庁所在地名が同じものを一つ選び、その記号と都道府県名を書け。

3 〔地図〕中のCの都市に特徴的に見られる地形として適当なものを、ア～カから一つ選び、その記号を書け。
 ア 扇状地 イ リアス海岸 ウ 海岸段丘 エ 河岸段丘 オ 三角州 カ 砂丘

4 右のグラフは、〔地図〕中のⅠ～Ⅳのおもな工業地帯や工業地域の産業別出荷額割合である。グラフ中の(a)～(c)に、それぞれ当てはまる工業名の組み合わせとして適当なものを、ア～カから一つ選び、その記号を書け。

	Ⅰ(a)	Ⅰ(b)	Ⅰ(c)	食料品	その他
Ⅰ	9.9%	50.8%	14.0%	8.5%	16.8%
Ⅱ	10.4%	67.3%		6.5	4.3 11.5%
Ⅲ	21.3%	39.0%	14.7%	9.2%	15.8%
Ⅳ	18.8%	40.7%	6.1	17.2%	17.2%

(日本国勢協会2010/11)

- ア {a機械 b化学 c金属} イ {a機械 b金属 c化学} ウ {a化学 b機械 c金属}
 エ {a化学 b金属 c機械} オ {a金属 b化学 c機械} カ {a金属 b機械 c化学}

5 下の表は、〔地図〕中のW～Zの4都道府県の種類々のデータを表したものである。表中のa～dにそれぞれ当てはまる都道府県の記号の組み合わせとして適当なものを、ア～カから一つ選び、その記号を書け。

	製造品出荷額合計	第3次産業の割合	みかん収穫量	かんしょ収穫量
a	3兆2250億円	59.9%	—	731 t
b	5682億円	79.1%	—	4,270 t
c	2兆 215億円	67.4%	18,300 t	400,400 t
d	3兆1741億円	67.5%	173,800 t	1,590 t

(県勢2011)

- ア {aW bZ cY dX} イ {aW bX cZ dY} ウ {aX bW cY dZ}
 エ {aX bW cZ dY} オ {aY bZ cX dW} カ {aY bZ cW dX}

6 〔地図〕中のあ・いの地域は、花や野菜などをおもに大消費地である都市向けに生産している。このうち、出荷時期を早める促成栽培をするためにビニールハウスや温室などの施設を使う農業を何農業というか、漢字四字で書け。(「農業」という漢字は四字には含まない。)

7 〔地図〕中のa～dのような、その地域の政治や経済の中心となっている都市には、中央官庁の出先機関や大企業の支社、支店などが置かれていることが多い。このような都市を何都市というか、漢字四字で書け。(「都市」という漢字は四字には含まない。)

8 〔地図〕中の▲印は、九州地方の半導体工場の分布図である。半導体などでIC(集積回路)がつくられる。一般的にIC工場は空港や高速道路のインターチェンジ付近に多く建設されている。ICなどの部品が飛行機で輸送されることが多い理由を、解答欄の文中の()に適当な言葉を書き入れて文を完成させよ。

(六) 次の1～6の問いに答えなさい。

1 〔地図1〕中のア～エから、赤道を選び、その記号を書け。

2 〔地図1〕中の矢印のように、西から東に日付変更線を越えて移動するとき、日付は1日「進む」のか「遅れる」のかを選び、書け。

3 アフリカ州には、直線で引かれた国境線が多い。その理由を植民地の言葉を用いて簡単に書け。

4 〔地図1〕中のX国について、(1)、(2)の問いに答えよ。

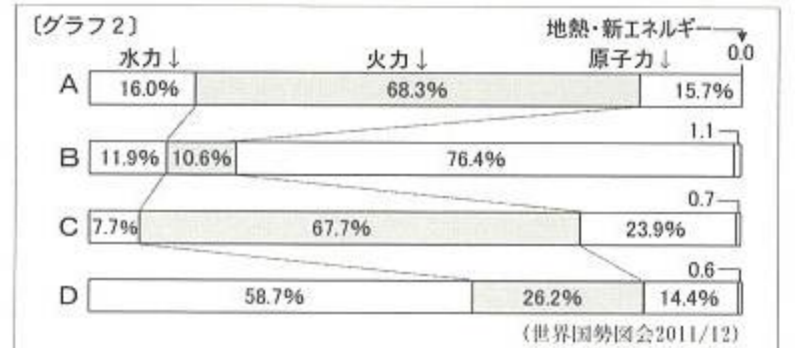
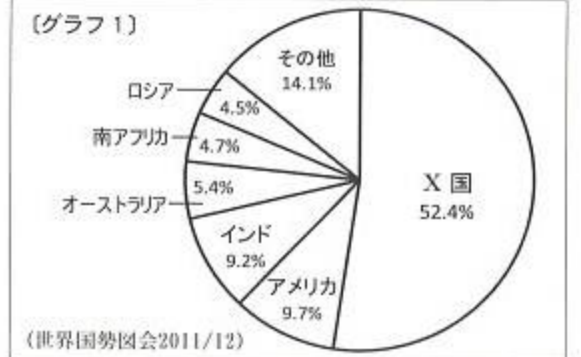
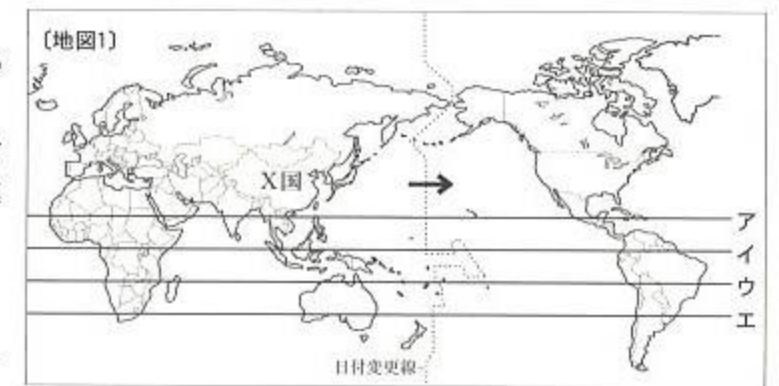
(1) X国の農村経済の中心になっている、村や町、あるいは個人が経営する中小企業のことを何というか、書け。

(2) 〔グラフ1〕は、ある鉱産資源の生産量の割合を示している。この鉱産資源を、ア～エから一つ選び、その記号を書け。

ア 天然ガス イ 鉄鉱石 ウ 石炭 エ ウラン

5 〔グラフ2〕は、ロシア連邦、カナダ、フランス、日本の発電エネルギー源別割合を示したものである。A～Dに当てはまる国の組み合わせとして適当なものを、ア～エから一つ選び、その記号を書け。

- ア {A ロシア連邦 B カナダ
C 日本 D フランス}
 イ {A 日本 B カナダ
C ロシア連邦 D フランス}
 ウ {A ロシア連邦 B フランス
C 日本 D カナダ }
 エ {A 日本 B フランス
C ロシア連邦 D カナダ }



6 〔地図2〕は、ニューヨークからの距離と方位が正しく表されている。〔地図2〕を見て、(1)、(2)の問いに答えよ。

(1) 〔地図2〕で、ニューヨークから見て、東京はどの方位にあるか、ア～エから一つ選び、その記号を書け。

ア 北北西 イ 北北東 ウ 南南西 エ 南南東

(2) 日本時間の1月1日午前10時に成田空港を出発して11時間後にニューヨークの空港に到着した。ニューヨークに到着した時間は、現地時間の何月何日の何時になるか書け。(午前、午後を明記すること)ただし、日本は東経135度、ニューヨークは西経75度を標準時子午線とする。

