

今治明德高等学校

平成20年度 学力検査

社会問題 一矢田分校入試一

受検番号	
------	--

*解答は、すべて別紙解答用紙の該当欄に記入下さい。

1 I・IIの各問いに答えなさい。

I 地図I・IIを見て、各問いに答えなさい。

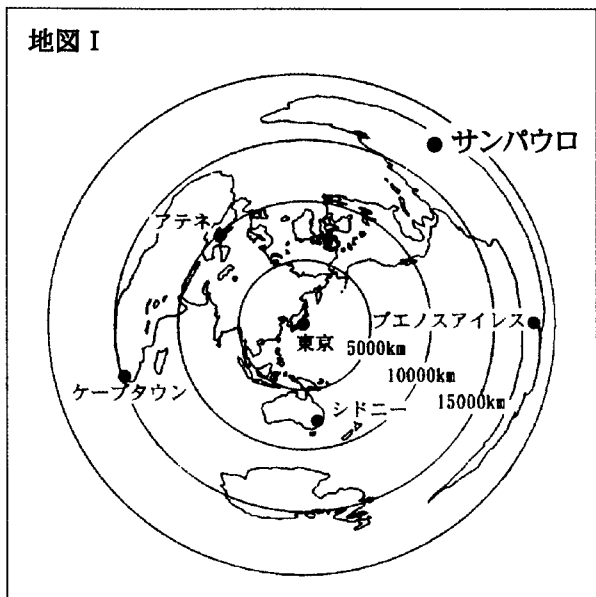
(1) 地図Iの特徴について正しく述べたものを、ア～エから1つ選び、記号を書きなさい。

ア 経線と緯線が直角に交わった地図で、航海図として利用される。

イ 面積が正しく描かれていて、国や地域などの面積の大きさがわかりやすい。

ウ 中心からの距離と方位が正しく表されており、航空図として利用される。

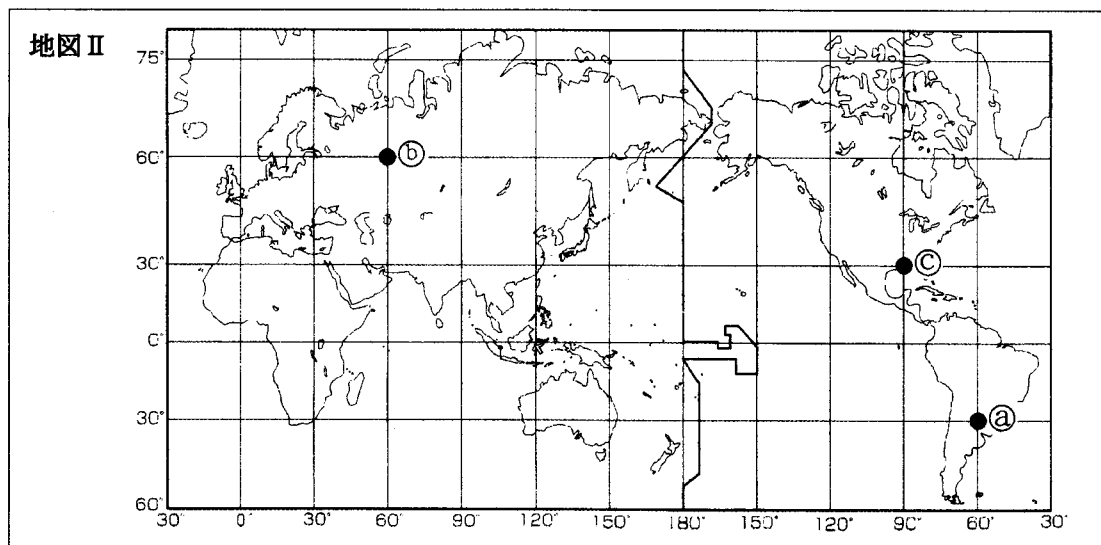
エ 面積・距離・方位・形などが正確に表されている。



(2) 地図Iについて、東京から見て、サンパウロは、ほぼどの方角にありますか。8方位で答えなさい。

(3) 地図II中の④の地点を緯度・経度を使って表しなさい。

(4) 地図IIについて、⑤の地点が5月4日午前8時のとき、③の地点は何月何日午前(午後)何時ですか。




(5) 次の①～④の説明にあてはまる国名の組み合わせとして正しいものを、ア～オから1つ選び、記号を書きなさい。

- ① 日本の約2倍ほどの面積の国。南北の長さが約4300 kmある国。
- ② 日本の面積の約26倍の大きさの国。国旗にかえでの葉が描かれている。
- ③ 日本の九州とほぼ同じ大きさの国。国土の4分の1が海面より低い国。
- ④ 日本よりもやや小さく、太平洋に浮かぶ島国。日本が夏の時、この国は冬である。

- ア ① 中国 ② スイス ③ チリ ④ フィジー
イ ① チリ ② オランダ ③ スイス ④ スリランカ
ウ ① チリ ② オランダ ③ スイス ④ フィジー
エ ① チリ ② カナダ ③ オランダ ④ ニューゼーランド
オ ① 中国 ② カナダ ③ オランダ ④ ニューゼーランド

II 《選択問題》 次のA～Cの問題の中から1題を選択し、各問いに答えなさい。〔解答欄には選んだ問題の記号A～Cを必ず書きなさい。〕

A アメリカ合衆国について、地図Iを見て、各問いに答えなさい。

(1) アメリカ合衆国の中で、地図Iの  のような近年、工業の発展がめざましい北緯37度以南の地域を何といいますか。

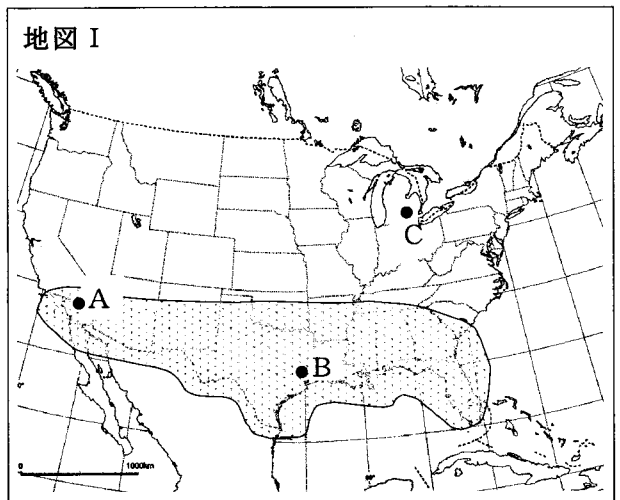
(2) 次の①～③の文は、地図I中のA～Cの工業都市を説明しています。

①～③にあてはまる都市名の組み合わせとして正しいものを、ア～カから1つ選び、記号を書きなさい。

① Aは、アメリカ第2の都市で、航空機や宇宙関連産業、先端技術などの工業が発達している。

② Bは、アメリカ南部での石油の開発とともに発達し、石油化学工業などのほか、宇宙関連産業がさかんである。

③ Cは、メサビ鉄山の鉄鉱石やアパラチア炭田の石炭が水運と結びついて発達した工業地域にあり、自動車工業が発達している。



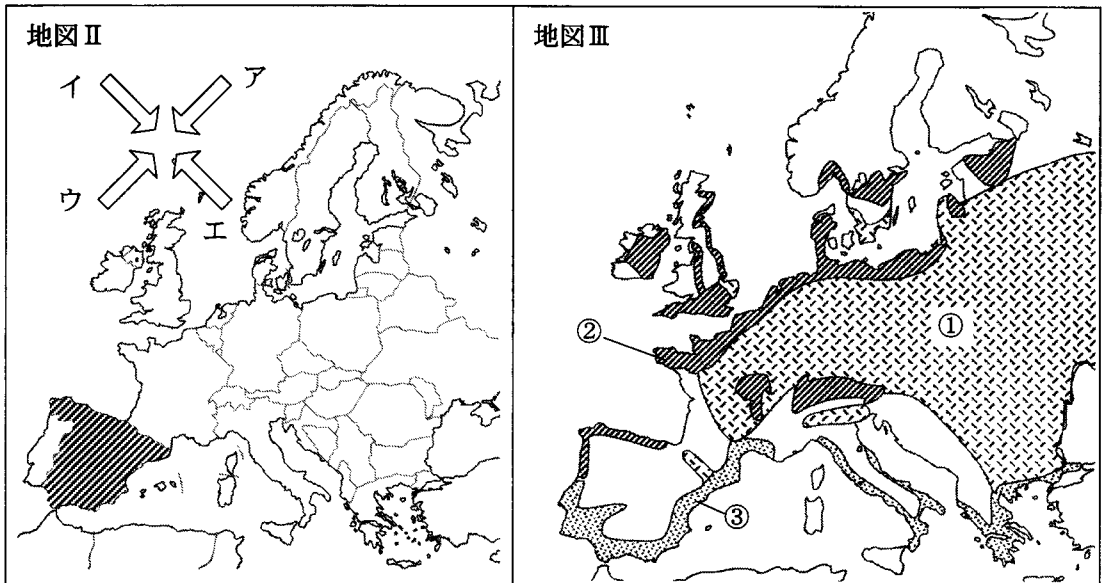
- ア ① デトロイト ② ヒューストン ③ ピッツバーグ
 イ ① ロサンゼルス ② デトロイト ③ ピッツバーグ
 ウ ① ロサンゼルス ② ヒューストン ③ デトロイト
 エ ① ニューヨーク ② ロサンゼルス ③ デトロイト
 オ ① ヒューストン ② デトロイト ③ シカゴ
 カ ① ニューヨーク ② ロサンゼルス ③ シカゴ

(3) アメリカの農業の特色を示す文を、ア～エから1つ選び、記号を書きなさい。

- ア 労働者を雇い、広大な農地を大型機械で耕す企業的経営をしている。
 イ 農家が国と取り決めた量をこえる残りを自由市場で売ることができる。
 ウ モノカルチャーとよばれる、輸出用の特定の農産物を栽培する農業がさかんである。
 エ 山林や原野の草木を焼いた灰を利用する、焼き畑農業とよばれる伝統的な農業がさかんである。

(4) アメリカで最近増加している、中南米からやってくるスペイン語系の住民を何と
 いいますか。

B ヨーロッパについて、地図Ⅱ・Ⅲを見て、各問いに答えなさい。



(1) ヨーロッパの気候に影響を与えている、年中一定の方向から吹く風の向きを、地
 図Ⅱ中のア～エから1つ選び、記号を書きなさい。

(2) 地図Ⅱ中の▨の国に特に多い民族を、ア～ウから1つ選び、記号を書きなさい。

ア ゲルマン民族 イ ラテン民族 ウ スラブ民族

(3) 地図Ⅲ中の①～③の地域は、それぞれおもにどのような農業が行われていますか。その地域と農業の種類の組み合わせとして正しいものを、ア～カから1つ選び、記号を書きなさい。

- ア ① 酪農 ② 地中海式農業 ③ 混合農業
 イ ① 酪農 ② 混合農業 ③ 地中海式農業
 ウ ① 地中海式農業 ② 酪農 ③ 混合農業
 エ ① 地中海式農業 ② 混合農業 ③ 酪農
 オ ① 混合農業 ② 酪農 ③ 地中海式農業
 カ ① 混合農業 ② 地中海式農業 ③ 酪農

(4) 下の表はEU・アメリカ合衆国・日本のいずれかの人口・面積・輸出入額を表わしたものです。このうちEUにあたるものをア～ウから1つ選び、記号を書きなさい。

	面積 (千km ²)	人口 (百万人)	貿易額 (億ドル)	
			輸出	輸入
ア	9629	298	8185	15256
イ	3981	458	36213	35887
ウ	378	128	5657	4546

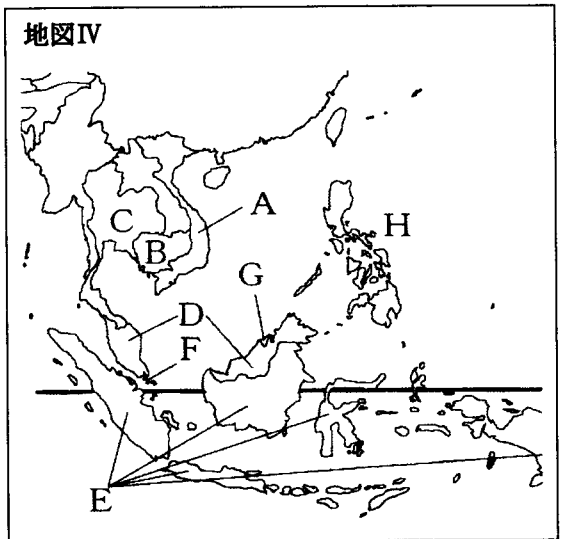
(世界国勢図会 2006/07 版)

C アジアの国々について、地図Ⅳを見て、各問いに答えなさい。

(1) 地図Ⅳ中のA～Hの国の中で国民のほとんどがキリスト教を信仰している国はどこですか。記号を書きなさい。

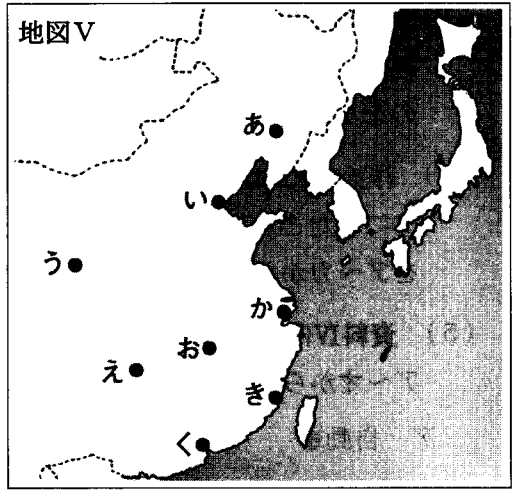
(2) 地図Ⅴ中の あ～く の中で、1997年にイギリスから中国に返還された都市はどこですか。記号を書きなさい。

(3) シンガポールなどのように急速に工業が発展した地域や国を何といいますか。アルファベットで書きなさい。



(4) 中国では1970年代の半ばから人民公社による集団農場をやめ、個々の農家が土地を預かり、自分で農作物を栽培する制度が取り入れられるようになりました。

各農家は、決められた量を政府に納入した後で残った分を自由市場で売って収入を増やすことができるようになりました。この制度を何といいますか。



2 I・IIの各問いに答えなさい。

I 洋治さんのクラスでは、日本のいろいろな産業について、自分たちで調べたことを授業で発表することになりました。次の資料は、そのために洋治さんたちの班が調べたものです。各問いに答えなさい。

(1) 資料Iの表は、日本における米・小麦・野菜・大豆・果実の各品目の食料自給率の推移を示したものです。そのうち野菜の自給率の推移を示したものはどれですか。表中のア～オから1つ選び、記号を書きなさい。

(2) 洋治さんたちは、各国の食料自給率も調べてみました。次のア～オのうち、現在、食料自給率が最も高い国を1つ選び、記号を書きなさい。

ア イタリア イ 日本 ウ イギリス エ ドイツ オ フランス

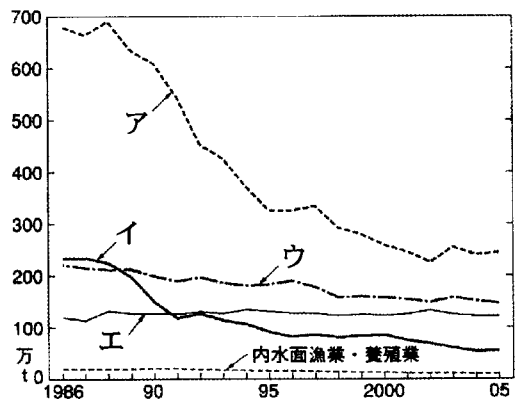
資料I 《日本の食料自給率の推移》

(概算)

品目	年	1960	1970	1980	1990	2000	2004	2005
ア		102	106	100	100	95	95	95
イ		39	9	10	15	11	14	14
ウ		28	4	4	5	5	3	5
エ		100	99	97	91	82	80	79
オ		100	84	81	63	44	40	41

(日本国勢図会 2007/08版)

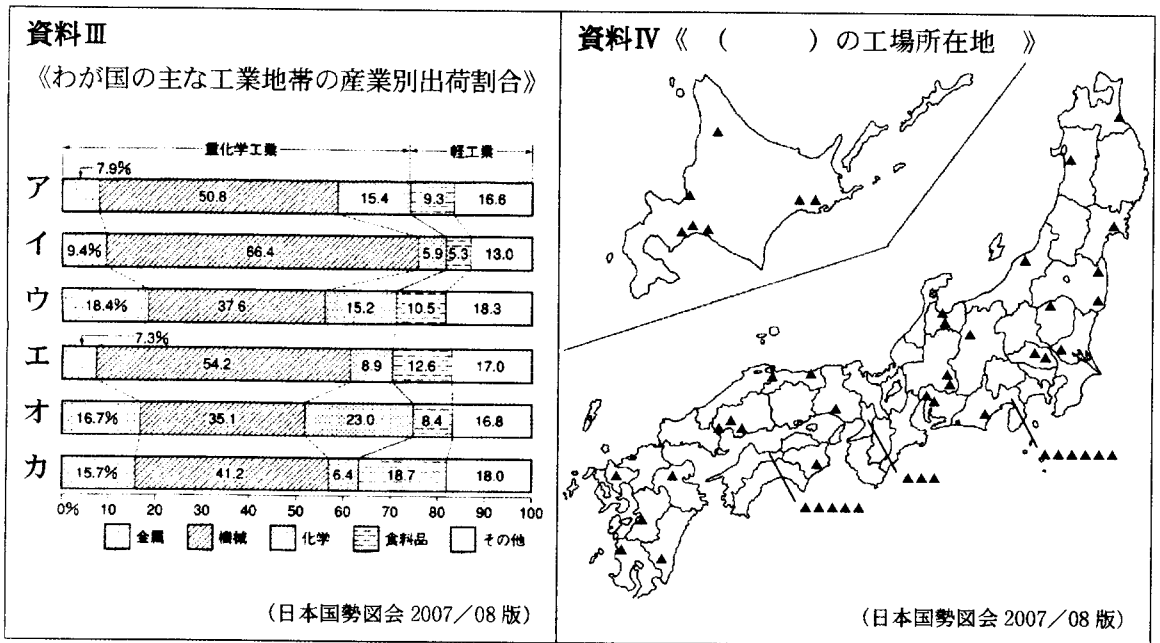
資料II 《わが国の漁業種別生産量の推移》



(日本国勢図会 2007/08版)

- (3) 資料Ⅱのグラフは、わが国の遠洋漁業・沖合漁業・沿岸漁業・海面養殖業の漁業種類別生産量の推移を示したものです。グラフのア～エのうち遠洋漁業にあたるものを1つ選び、記号を書きなさい。
- (4) 洋治さんの班が、主な工業地帯や地域の出荷額を調べ、その産業別の割合をグラフにしたところ資料Ⅲのようになりました。瀬戸内工業地域のグラフにあたるものをア～カから1つ選び、記号を書きなさい。
- (5) 資料Ⅳは、ある工業の工場所在地の地図です。この地図の所在地にあたる業種をア～オから1つ選び、記号を書きなさい。




ア 自動車 イ 半導体 ウ セメント エ パルプ・紙製造 オ 鉄鋼



Ⅱ 愛媛県について、各問いに答えなさい。

- (1) 愛媛県の2005年の人口は1,467,824人で、面積は5,677km²です。愛媛県の人口密度を計算しなさい。(答えは小数第2位を四捨五入して、第1位まで求めなさい。)
- (2) 次のA～Cの都市に関連する写真(a)～(d)の組み合わせとして、正しいものをア～カから1つ選び、記号を書きなさい。

A 宇和島市 B 新居浜市 C 大洲市



ア A-(b) B-(c) C-(d)

イ A-(b) B-(a) C-(c)

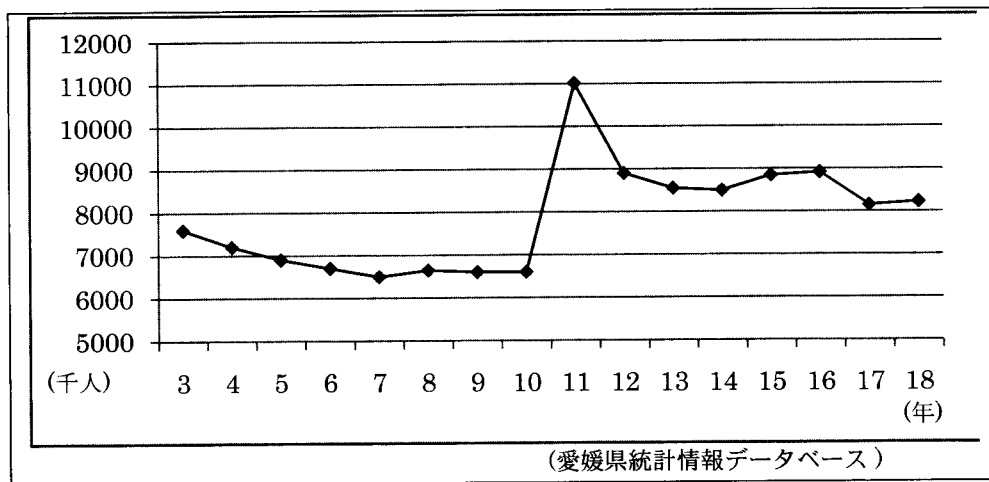
ウ A-(b) B-(a) C-(d)

エ A-(c) B-(a) C-(d)

オ A-(d) B-(a) C-(b)

カ A-(d) B-(c) C-(b)

(3) 次のグラフは愛媛県への県外からの観光客数の推移です。観光客数が平成10年から平成11年にかけて急激に伸びた理由を簡単に書きなさい。



(4) 次のア～カの人物のうち、愛媛県出身でない人を1人選び、記号を書きなさい。

ア 秋山真之 イ 正岡子規 ウ 一遍 エ 空海 オ 大江健三郎 カ 片山恭一

《選択問題》

- 「岩手県」・「福岡県」・「東京都」のうち1つを選択して、
 ①それらについて説明している文章と、②主な生産物、
 ③写真をそれぞれ選び、記号を書きなさい。

〔解答欄には選んだ都道府県名を必ず書きなさい。〕

①説明文

- ア 地形的に天然の良港に恵まれ、その沖は暖流と寒流がぶつかり合うため好漁場となっている。しかし、沿岸漁業や沖合漁業は衰退し、育てる漁業として養殖漁業や栽培漁業がさかんになった。また、地元の資源を生かした伝統的工芸品が今でも各地で生産されている。
- イ 古代から政治や軍事の拠点もあり、同時にアジアへの玄関口であった。中世には商人の町として栄え、現在ではこの地方の中心地としての役割を果たしている。
- ウ 産業としては、出版・印刷業、コンピューターなどの電子機器、衣服・服飾などが中心である。ここは情報や流行の発信地であるばかりでなく、高い技術力や大消費地に関連した都市型工業を展開している。

②主な生産物 (県勢 2007)

ア

主な生産物	
補聴器	(2004年) 65%(1位)
汎用コンピューター	(2004年) 40%(1位)
皮革工業製品	(2004年) 27%(1位)
つり道具	(2004年) 27%(1位)
印刷・同関連業	(2004年) 25%(1位)
精密機械器具	(2004年) 14%(1位)
小松菜	(2004年) 11%(2位)

※カッコ内は年次と全国順位

イ

主な生産物	
りんどう	(2005年) 69%(1位)
生うるし	(2004年) 57%(1位)
養殖わかめ	(2004年) 44%(1位)
木炭	(2004年) 26%(1位)
鶏肉	(2004年) 14%(3位)
りんご	(2004年) 7%(3位)

※カッコ内は年次と全国順位

ウ

主な生産物	
辛子明太子	(2004年) 72%(1位)
ゴム底布靴	(2004年) 43%(1位)
たんす	(2004年) 22%(1位)
たけのこ	(2004年) 33%(1位)
ちょうちん	(2004年) 41%(2位)
キウイフルーツ	(2004年) 18%(2位)
いちご	(2004年) 9%(2位)

※カッコ内は年次と全国順位


エ

主な生産物	
いよかん	(2004年) 84%(1位)
はだか麦	(2005年) 40%(1位)
キウイフルーツ	(2004年) 22%(1位)
養殖まだい	(2004年) 47%(1位)
タオル	(2004年) 60%(1位)
祝儀用品	(2004年) 42%(1位)
障子紙・書道用紙	(2004年) 30%(1位)
養殖真珠	(2004年) 27%(2位)


※カッコ内は年次と全国順位

③写真


ア




イ



ウ



エ



- (3) 下線部(a)の改革として、適当なものをア～エから1つ選び、記号を書きなさい。
- ア 仏教を新しい政治理念として重んじた。
 - イ 中国の都城にならい、藤原京を造営した。
 - ウ 有力豪族を倒して摂関政治を確立した。
 - エ 天皇から政治の実権を奪って院政を開始した。
- (4) 下線部(b)の代表として、中国に派遣された人物はだれか。ア～エから1つ選び、記号を書きなさい。
- ア 聖徳太子
 - イ 推古天皇
 - ウ 小野妹子
 - エ 坂上田村麻呂
- (5) 下線部(c)の説明として、適当でないものをア～エから1つ選び、記号を書きなさい。
- ア 中央機関として、御家人を統制する侍所をおいた。
 - イ 地方には守護と地頭をおいて統制した。
 - ウ 幕府支配の根本は、将軍と御家人の主従関係であった。
 - エ 中央には記録所と雑訴決断所をおいた。
- (6) 下線部(d)の組み合わせとして、適当でないものをア～エから1つ選び、記号を書きなさい。また、正しい語句も書きなさい。
- ア 浄土宗 - 法然 - 念仏をとこなえる
 - イ 浄土真宗 - 道元 - 悪人正機を説く
 - ウ 臨済宗 - 栄西 - 坐禅によって悟りをひらく
 - エ 日蓮宗 - 日蓮 - 題目をとこなえる
- (7) 下線部(e)の内容として、適当なものをア～エから1つ選び、記号を書きなさい。
- ア 大名は国元と江戸を往復する参勤交代を義務づけられた。
 - イ 酒や茶を買って飲むことを禁止した。
 - ウ 京都所司代に朝廷を監視させた。
 - エ 日本人の海外渡航や貿易に制限を加えた。
- (8) 下線部(f)の改革として、適当なものをア～オから2つ選び、記号を書きなさい。
- ア 大名から1万石につき100石を献上させた。
 - イ 株仲間を公認して、営業税を納めさせた。
 - ウ 朱子学以外の学問を禁止した。
 - エ 目安箱を設置して庶民の意見を聞いた。
 - オ 人返しの法を出して百姓の出稼ぎを禁止した。

4 次の略年表を見て、各問いに答えなさい。

(1) Aの時期には自由民権運動が高まりました。当時、ルソーらの民主主義思想を、わが国に広めた人物はだれですか。ア～オから1つ選び、記号を書きなさい。

- ア 幸徳秋水 イ 吉野作造
ウ 中江兆民 エ 田中正造
オ 内村鑑三

(2) 下線部(a)・(b)の条約について、適当なものをア～オから1つずつ選び、記号を書きなさい。

ア 山東省のドイツ権益の継承、旅順・大連の租借期間の延長を中国に認めさせる。

イ 旅順・大連の租借権、長春以南の鉄道利権を日本にゆずりわたす。

ウ 下田・函館の2港をひらく。

エ 遼東半島・台湾・澎湖諸島を日本にゆずりわたす。

オ 函館・神奈川・長崎・新潟・兵庫の5港をひらく。

年代	できごと	
1880	自由民権運動がさかんになる	A
1889	大日本帝国憲法が公布	
1890	第1回帝国議会が開かれる	
1895	(a) <u>下関条約</u> が結ばれる	B
1902	日英同盟が結ばれる	C
1905	(b) <u>ポーツマス条約</u> が結ばれる	
1914	第一次世界大戦が始まる	D
	I ① シベリア出兵 ② 二十一か条の要求 ③ ロシア革命	
1925	(c) <u>普通選挙法</u> の成立	
	II ① 国際連盟脱退 ② 五・一五事件 ③ 満州事変	E
1936	二・二六事件がおこる	
1946	日本国憲法の公布	F
1951	(d) <u>サンフランシスコ平和条約</u> が結ばれる	G
1956	(e) <u>日本が国際連合に加盟</u>	
1965	(f) 条約が結ばれる	
1972	中国との国交正常化	
1978	(g) 条約が結ばれる	

(3) 日本が欧米から関税自主権を回復した時期はA～Gのどの期間ですか。記号を書きなさい。

(4) I・IIの の①～③を古い順に正しく並べたものを、ア～カからそれぞれ1つずつ選び、記号を書きなさい。

ア ①→②→③

イ ①→③→②

ウ ②→①→③

エ ②→③→①

オ ③→①→②

カ ③→②→①

(5) 下線部(c)・(d)と同時に成立したものを、ア～カからそれぞれ1つずつ選び、記号を書きなさい。

ア 国家総動員法

イ 日清修好条規

ウ 治安維持法

エ 日米安全保障条約

オ 日朝修好条規

カ 核拡散防止条約

(6) 下線部(e)について、国際連合に加盟できたのは、どこの国と国交を回復したからですか。国名を書きなさい。

(7) 略年表の(f)(g)に適当な条約名を書きなさい。

5 右の表は、中学校のあるクラスで行った調べ学習について班ごとに調べたテーマをまとめたものである。これを見て、各問いに答えなさい。

(1) A班は、政党の役割について調べた。①・②の各問いに答えなさい。

班	テーマ
A班	政党の役割
B班	地方公共団体
C班	日本国憲法
D班	衆議院と参議院
E班	三権分立

- ① 一般に、内閣を組織する政党を何と言いますか。
 ② 資料1のように単一の政党だけでは議会の過半数に達しない場合、複数の政党が協力して結んだ政権を何と言いますか。

資料1 1993年7月の議席数(511議席)

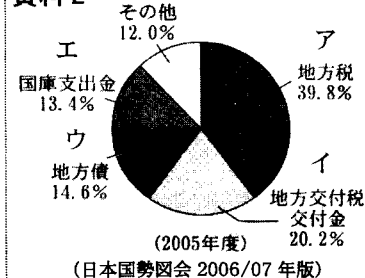
日本社会党 70	日本新生党 55	公明党 51	日本新党 35	民社党 15	社会民主連合 4	自由民主党 223	日本共産党 15	新党さきがけ 13	その他 30
-------------	-------------	-----------	------------	-----------	----------	--------------	----------	-----------	-----------

(2004年刊 日本統計年鑑)

(2) B班は、地方公共団体について調べた。①・②の各問いに答えなさい。

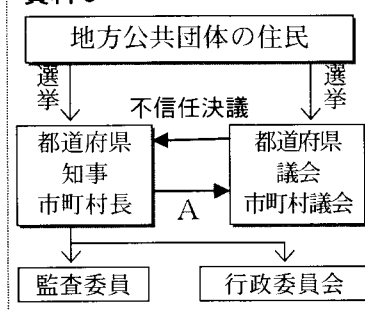
- ① 地方公共団体の財政について調べ、資料2を作成した。地方公共団体は、租税収入の不足を補うためにお金を借り入れることがある。これにあてはまるものを資料2中のア～エから1つ選び、記号を書きなさい。

資料2



- ② 地方自治のしくみを説明するために、資料3を用いた。資料3中の不信任決議が可決された場合、都道府県知事が都道府県議会に、市町村長が市町村議会に対して行使できるAの権限は何ですか。ア～エから1つ選び、記号を書きなさい。

資料3



ア 拒否 イ 罷免 ウ 解散 エ 審査

(3) C班は、日本国憲法について調べた。①～③の各問いに答えなさい。

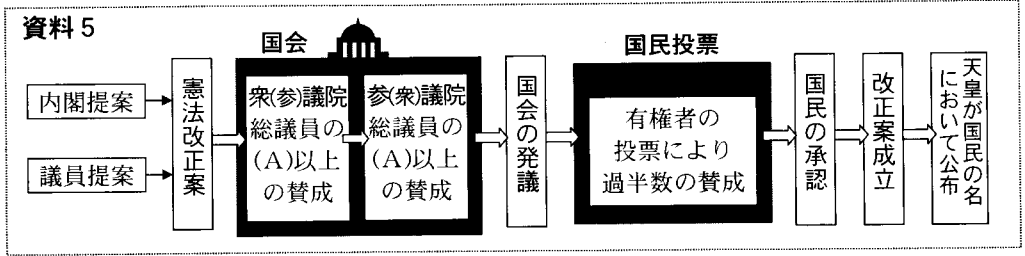
- ① 日本国憲法の三つの基本原則を説明するために資料4を用いた。この資料に関係の深い基本原則は何か。

資料4

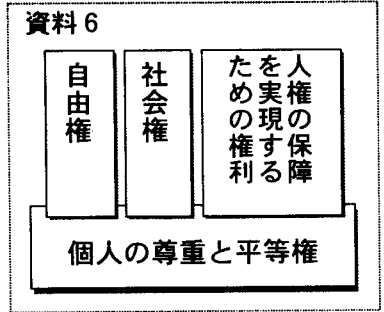


② 日本国憲法の改正の手続きについて調べ、資料5を作成した。資料5の(A)にあてはまるものをア～エから1つ選び、記号を書きなさい。

ア 2分の1 イ 3分の1 ウ 3分の2 エ 4分の3



③ 資料6は、日本国憲法の基本的人権について示したものである。基本的人権の自由権としてあてはまらないものをア～エから1つ選び、記号を書きなさい。



ア 現行犯として逮捕される場合を除いては、裁判官の令状なしに逮捕されることはない。

イ 私有財産は認められる。

ウ 教育を受ける権利を有する。

エ 国およびその機関は、宗教教育その他いかなる宗教的活動もしてはならない。

(4) D班は、衆議院と参議院について調べた。①・②の各問いに答えなさい。

① 衆議院の特徴を説明するために下記の説明文をつくった。空欄(A)～(C)に適する語句の組み合わせとして正しいものをア～エから1つ選び、記号を書きなさい。
「衆議院は、議員の任期が(A)年で参議院より(B)、解散が(C)。」

ア A 4 = B 短く = C ある

イ A 6 = B 長く = C ない

ウ A 4 = B 長く = C ある

エ A 6 = B 短く = C ない

② 衆議院の優越事項を説明するため資料7を作成したが、1つだけ項目を見落としていた。衆議院の優越事項としてあてはまるものをア～エから1つ選び、記号を書きなさい。

資料7

優越事項
法律案の議決
予算の先議
予算の議決
条約の承認
内閣総理大臣の指名

ア 法律の執行 イ 違憲審査権

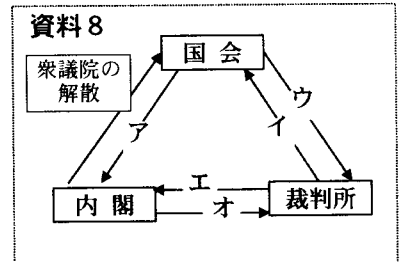
ウ 内閣不信任決議 エ 国政調査権

(5) E班は、三権分立を図式化した資料8を作成した。

次のA～Cは資料8中のア～オのうち、どのはたらきにあたるか。それぞれ1つずつ選び、記号を書きなさい。

A 内閣総理大臣の指名 B 裁判官の弾劾裁判

C 最高裁判所長官の指名



6 次の各問いに答えなさい。

(1) 右のグラフ1は、勤労者1世帯あたりの1か月の家計の支出の平均(2001年)を示したものである。グラフ1を見て、下の①・②の問いに答えなさい。

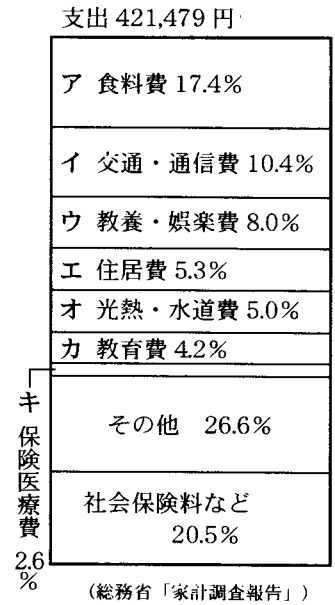
① 次のA・Bは、グラフ1中の支出のどの項目に入るか、ア～キからそれぞれ1つずつ選び、記号を書きなさい。

A ガス代 B 歯の治療費

② 下のア～エから貯蓄にあてはまるものを1つ選び、記号を書きなさい。

ア 交通・通信費 イ 消費税
ウ 生命保険料 エ 食料費

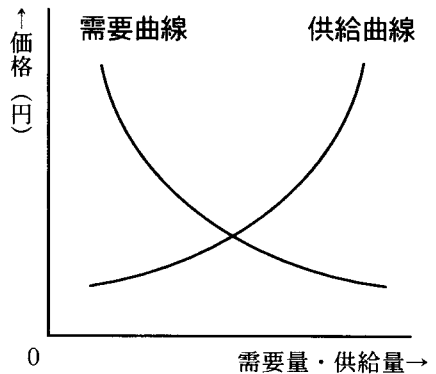
グラフ1



(2) 右のグラフ2は、ある商品の需要曲線と供給曲線を表しています。グラフ2を参考にして、下の文中A～Cの{ }内ア・イから適当なものをそれぞれ選び、記号を書きなさい。

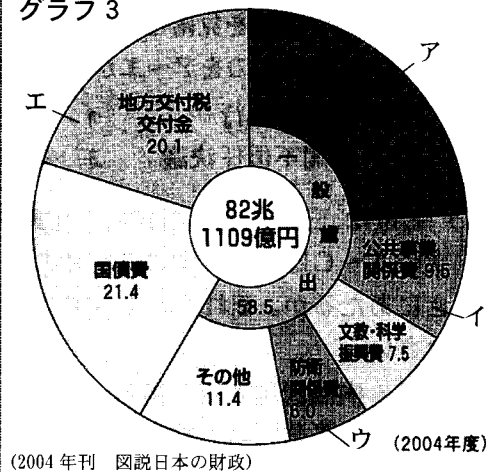
A {ア 需要量が供給量
イ 供給量が需要量}を上回っている場合、価格が上昇し、一般に生産者は、
B {ア 需要量 イ 供給量}
をC {ア 増やそう イ 減らそう}とします。

グラフ2



(3) 右のグラフ3は、わが国の支出の内訳について示したものである。国が国民の「生存権」を保障するためにあてる費用にあてはまるものを、グラフ3中のア～エから1つ選び、記号を書きなさい。

グラフ3

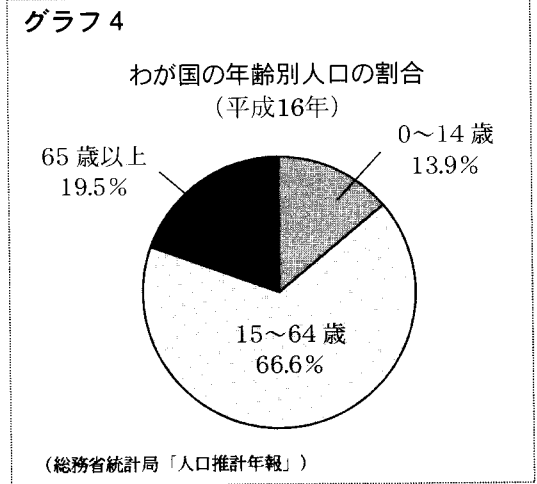


(4) 日本の社会保障制度は、社会保険・公的扶助・社会福祉・公衆衛生の4つを基本的な柱としており、次のア～エは、この4つを説明したものである。社会保険について述べた文として適当なものをア～エから1つ選び、記号を書きなさい。

- ア 生活に困っている人々に生活費や教育費などを支給する。
- イ 国民から集めた保険料を、病気や失業などの場合に保険金として提供する。
- ウ 障害のある人や高齢者などの自立を支援する。
- エ 伝染病などの予防対策や上下水道などの整備をする。

(5) 右のグラフ4は、平成16年のわが国の年齢別人口の割合を示したものである。グラフ4で65歳以上の高齢者が占める割合は、わが国の人口のおおよそ何人に1人となりますか。ア～エから1つ選び、記号を書きなさい。

- ア 3人 イ 4人
- ウ 5人 エ 6人



(6) 下のグラフ5は、平成17年度のわが国の収入を表したものである。このうち、間接税にあてはまるものをア～エから1つ選び、記号を書きなさい。

