

今治明德高等学校

平成22年度 学力検査

社会問題 (矢田分校一般入試)

受験番号

*解答は、すべて別紙解答用紙の該当欄に記入しなさい。

1 I・IIの各問いに答えなさい。

I 地図I、IIを見て、次の各問いに答えなさい。

(1) 地図Iの特徴について正しく述べたものはどれですか。ア～エから1つ選び、記号を書きなさい。

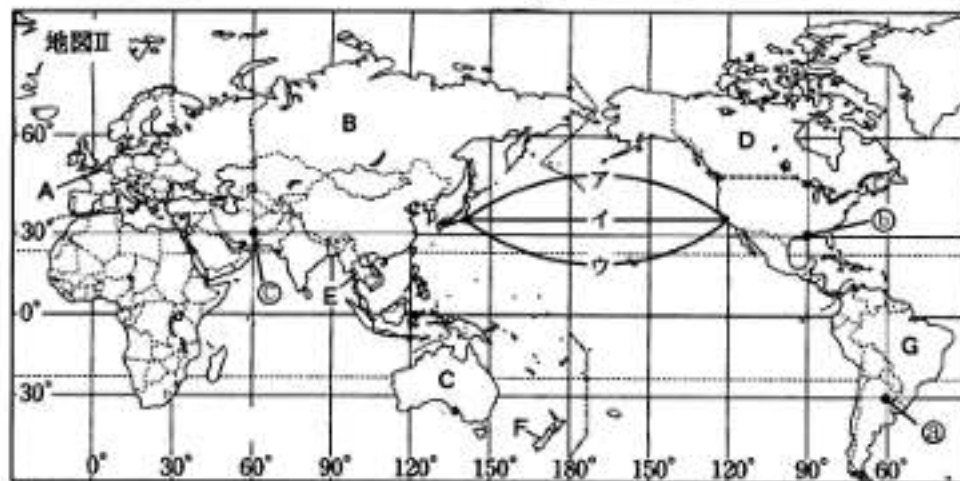
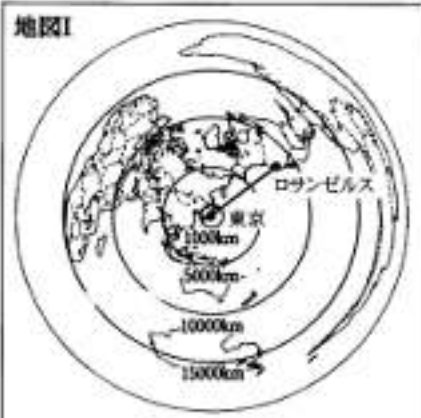
ア 経線と緯線が直角に交わった地図で、航海図として利用されることが多い。

イ 面積が正しく描かれていて、国や地域などの面積の大きさがわかりやすい。

ウ 中心からの距離と方位が正しく表されており、航空図として利用される。

エ 面積・距離・方位・形などが正確に表されている。

地図I



(2) 地図II中の②の地点を緯度・経度を使って表しなさい。

(3) 地図IIについて、①の地点が5月4日午前8時のとき、②の地点は何月何日午前(午後)何時ですか。

(4) 地図I中の東京とロサンゼルスを結ぶ線は航空機で移動する場合の最短コースです。このコースを地図IIで示すと、ア～ウのどれになりますか。1つ選び、記号を書きなさい。

(5) 次のア～エの文章があてはまる国を、地図II中のA～Gから1つずつ選び、その記号と国名をそれぞれ書きなさい。

- ア ベネルクス三国の1つでEUの本部が置かれている。
 イ 国土の3分の1を森林がおおい、世界有数の木材・パルプの輸出国である。公用語は英語とフランス語である。
 ウ 鉄鉱石、コーヒー豆などの世界有数の生産国である。明治時代から多くの日本人が移住し、現在も多くの日系人が住んでいる。
 エ 古くからの独立国で、モンスーンの雨を利用した稲作が行われていて、世界一の米の輸出国である。日本企業の進出がさかんで工業化が進んでいる。

II 【選択問題】 次のA～Cの問題の中から1題を選択し、各問いに答えなさい。〔解答欄には選んだ問題の記号A～Cを必ず書きなさい。〕

A 中国について、各問いに答えなさい。

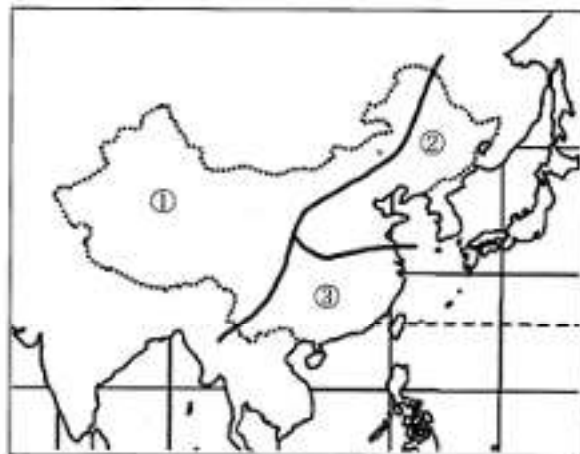
- (1) 下の表のうち中国にあたるものをa～eから1つ選び、記号を書きなさい。

世界国勢協会 2008/09

	総人口 (万人)	人口密度 (人/km ²)	面積 (万km ²)	一人あたり国内総生産 (百万ドル)
a	2,070	3	769.2	37,704
b	6,135	111	55.2	36,700
c	12,777	343	37.8	34,194
d	131,448	137	959.7	2,016
e	29,940	31	962.9	43,968

※ a～eの国はアメリカ・中国・日本・オーストラリア・フランスのどれかにあたる。

地図I



- (2) 地図Iの①～③の地域の自然環境や農業について述べた次の文のうち、適当なものをア～エから1つ選び、記号を書きなさい。

- ア ①は雨がほとんど降らず、農産物があまりとれない地域である。
 ②は雨がやや少なくて、小麦など畑作物が中心である。
 ③は雨が多くて、平地では稲作が中心である。

- イ ①は雨が多くて、平地では稲作が中心である。
 ②は雨がやや少なくて、小麦など畑作物が中心である。
 ③は雨がほとんど降らず、農産物があまりとれない地域である。

- ウ ①は雨がやや少なくて、小麦など畑作物が中心である。
 ②は雨が多くて、平地では稲作が中心である。
 ③は雨がほとんど降らず、農産物があまりとれない地域である。

- エ ①は雨がほとんど降らず、農産物があまりとれない地域である。
 ②は雨が多くて、平地では稲作が中心である。
 ③は雨がやや少なくて、小麦など畑作物が中心である。

- (3) 次の各都市について、鉱産資源の産地やそれぞれ発達している工業との組み合わせとして適当でないものをア～オから1つ選び、記号を書きなさい。

- ア ホンコン＝石油 イ フーシェン＝石炭 ウ アンシャン＝鉄鉱石
 エ バオトウ＝鉄鋼 オ ウーハン＝鉄鋼・機械

- (4) 中国の農業では生産責任制度が取り入れられてから、都市近郊の農村部では、1年間の収入が1万元をこえるような農家が増えています。そのような農家のことを何といいますか。

B アメリカ合衆国について、各問いに答えなさい。

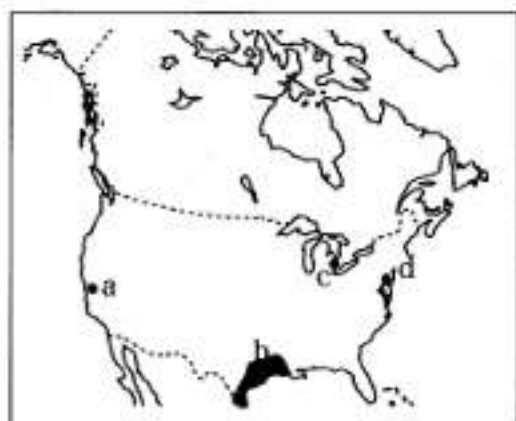
- (1) 下の表のうちアメリカ合衆国にあたるものをa～eから1つ選び、記号を書きなさい。

世界国勢図会 2008/09

	総人口 (万人)	人口密度 (人/km ²)	面積 (万 km ²)	一人あたり国内総生産 (百万ドル)
a	2,070	3	769.2	37,704
b	6,135	111	55.2	36,700
c	12,777	343	37.8	34,194
d	131,448	137	959.7	2,016
e	29,940	31	962.9	43,968

※a～eの国々はアメリカ・中国・日本・オーストラリア・フランスのどれかにあたる。

地図Ⅱ



- (2) 地図Ⅱ中のa～dの都市のうち自動車工業で知られる都市はどこですか。記号を書きなさい。
- (3) 地図Ⅱ中の●の地域では、その付近で産出される石油を利用した石油化学工業が発達しています。その中心となる工業都市名を、ア～オから1つ選び、記号を書きなさい。
- ア ヒューストン イ シカゴ ウ ロサンゼルス
エ ワシントン オ ニューヨーク
- (4) アメリカの農業で、土地の土壌や気候など自然条件にあわせて、その土地に最も合った農作物を栽培することを何といいますか。漢字4字で書きなさい。

C ヨーロッパの国々について、各問いに答えなさい。

- (1) 下の表のうちフランスにあたるものをa～eから1つ選び、記号を書きなさい。

世界国勢図会 2008/09

	総人口 (万人)	人口密度 (人/km ²)	面積 (万 km ²)	一人あたり国内総生産 (百万ドル)
a	2,070	3	769.2	37,704
b	6,135	111	55.2	36,700
c	12,777	343	37.8	34,194
d	131,448	137	959.7	2,016
e	29,940	31	962.9	43,968

※a～eの国々はアメリカ・中国・日本・オーストラリア・フランスのどれかにあたる。

- (2) 次の表は自動車生産台数の上位5カ国を示しています。表中のXにあてはまる国名を地図Ⅲ中から選んで書きなさい。

順位	国名
1	日本
2	アメリカ
3	中国
4	X
5	韓国

世界国勢図会 2008/09

地図Ⅲ



- (3) EUについて述べた文として適当なものを、ア～エから1つ選び、記号を書きなさい。
- ア 加盟国間の経済力に合わせて関税の率を定め、貿易をおこなっている。
イ EU域内では、国境をこえて、人やモノが自由に行き来することができる。
ウ 言語を統一し、加盟国間の交流を活発にしている。
エ EU域内では、共通の宗教を信仰している。
- (4) ヨーロッパのアルプス山脈・ピレネー山脈以北のほぼ全域で行われている、農作物の栽培と家畜の飼育を組み合わせた農業を何といいますか。

2 I・IIの各問いに答えなさい。

I 次の各問いに答えなさい。

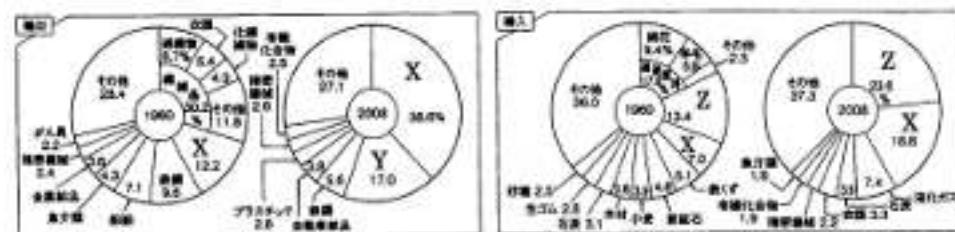
- (1) 下の表は新潟県・愛媛県・鹿児島県における、農業産出額と米、野菜、果実、畜産の生産額を表しています。表中のX～Zの組み合わせとして適当なものを、ア～カから1つ選び、記号を書きなさい。

都道府県	農業産出額	X	Y	Z	畜産生産額
新潟県	2,964	1,831	89	337	525
愛媛県	1,300	160	466	207	307
鹿児島県	4,079	240	100	424	2,382

県勢 2009 (単位億円)

- ア (X-野菜 Y-米 Z-果実) イ (X-米 Y-果実 Z-野菜)
 ウ (X-果実 Y-米 Z-野菜) エ (X-米 Y-野菜 Z-果実)
 オ (X-野菜 Y-果実 Z-米) カ (X-果実 Y-野菜 Z-米)

- (2) 下のグラフは、1960年と2008年の日本の主要輸出入品を比較したものである。グラフ中のX～Zの組み合わせとして適当なものを、ア～カから1つ選び、記号を書きなさい。

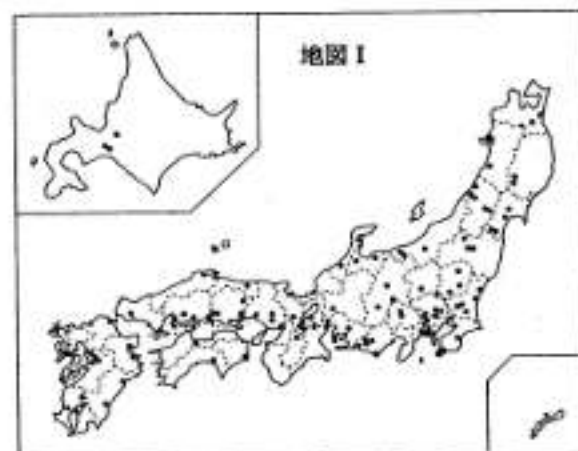


日本国勢図会 2009/10

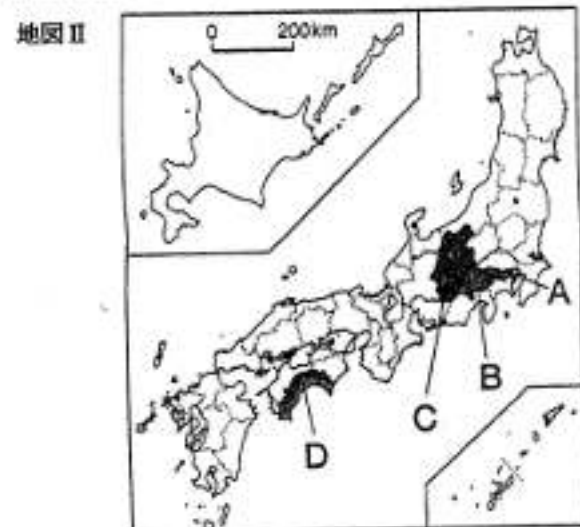
- ア (X-機械 Y-自動車 Z-石油) イ (X-自動車 Y-石油 Z-機械)
 ウ (X-石油 Y-自動車 Z-機械) エ (X-自動車 Y-機械 Z-石油)
 オ (X-機械 Y-石油 Z-自動車) カ (X-石油 Y-機械 Z-自動車)

- (3) 右の地図Iは、ある工業の全国の事業所の場所を示しています。適当なものを、ア～クから1つ選び、記号を書きなさい。

- ア 原子力発電所
 イ 石油化学コンビナート
 ウ 水力発電所
 エ 造船所
 オ 製油所
 カ 火力発電所
 キ 半導体工場
 ク 自動車工場



- (4) 右の地図IIのA～Dの都道府県の特徴について述べた文のうち、適当でないものをア～エから1つ選び、記号を書きなさい。



- ア Aでは、耕地整理や区画整理が進み、全国有数の穀倉地帯となっている。
 イ Bでは、扇状地などの地形を利用してぶどうやももの栽培がさかんである。
 ウ Cでは、夏でも冷涼な気候を利用して、野菜の抑制栽培が行われている。
 エ Dでは、ビニールハウスなどで野菜の促成栽培を行っている。

- (5) 右の表は、日本のある鉱産資源の輸入先とその割合である。その鉱産資源として適当なものをア～キから1つ選び、記号を書きなさい。

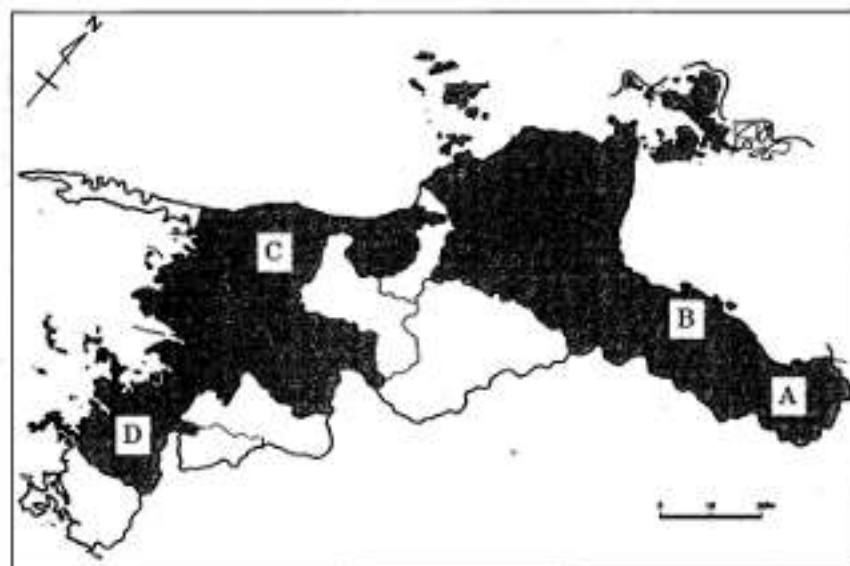
ア 石油
イ 天然ガス
ウ 鉄鉱石
エ 石炭
オ ポークサイト
カ 金
キ 銅

輸入先	数量(千t)	%
オーストラリア	83,242	59.9
ブラジル	30,762	22.2
インド	7,876	5.7
南アフリカ共和国	6,425	4.6
フィリピン	5,318	3.8
カナダ	1,939	1.4
合計	138,880	100.0

日本国勢協会 2009/10

II 愛媛県について次の各問いに答えなさい。

- (1) 次の地図中のA～Dの都市の組み合わせとして、適当なものをア～オから1つ選び、記号を書きなさい。



- | | | | | |
|---|--------|--------|-------|-------|
| ア | A 新居浜 | B 四国中央 | C 八幡浜 | D 宇和島 |
| イ | A 四国中央 | B 新居浜 | C 大洲 | D 宇和島 |
| ウ | A 四国中央 | B 西条 | C 八幡浜 | D 大洲 |
| エ | A 新居浜 | B 四国中央 | C 宇和島 | D 八幡浜 |
| オ | A 西条 | B 新居浜 | C 八幡浜 | D 宇和島 |

- (2) 資料Ⅰは、四国4県の産業別就業者割合です。愛媛県にあたるものをア～エから1つ選び、記号を書きなさい。

資料Ⅰ

	1次産業	2次産業	3次産業	総就業者数	農業産出額
ア	8.3%	25.7%	66.0%	71.3万人	1300億円
イ	5.9%	26.0%	68.1%	50.6万人	796億円
ウ	11.1%	18.4%	70.5%	38.5万人	987億円
エ	9.0%	24.3%	66.7%	38.7万人	1052億円

県勢 2009

- (3) 資料Ⅱは、愛媛県の松山市・宇和島市・西条市の産業別就業者割合です。そのうち宇和島市にあたるものをア～ウから1つ選び、記号を書きなさい。

資料Ⅱ

	総数(人)	1次産業(%)	2次産業(%)	3次産業(%)	農業産出額(千万円)	製造品出荷額(億円)
ア	53723	9.2	35.0	55.2	1500	7839
イ	42216	20.2	16.1	63.0	1298	311
ウ	232084	4.3	19.4	73.8	1831	4235

県勢 2009

- (4) 次の旗はある都道府県の旗です。そのうち愛媛県の旗をア～オから1つ選び、記号を書きなさい。

ア



イ



ウ



エ



オ



- (5) 愛媛県について述べている次の文の中で、適当でないものをア～エから1つ選び、記号を書きなさい。

- ア 全国的に市町村の合併がすすむ中、愛媛県は2003年に70あった市町村は、2006年には20市町となり、村は0になった。
- イ 愛媛県のシンボルとして指定されている木は「まつ」、花は「みかんの花」、鳥は「コマドリ」、魚は「マダイ」である。
- ウ 愛媛の名は、『古事記』の記述に「伊予の国を愛比売といひ……」とあり、それが転化して、現在の県名の「愛媛」となったとされている。
- エ 愛媛県では、県域を三分し、東予・中予・西予と呼ぶことが多い。この場合、東予とは、今治市、西条市以東の地域を指す。西予とは、大洲市、内子町以西を指す。中予はこれ以外の地域ということになる。

- 3 次の資料は、社会科の授業で、歴史上の人物A～Gについて調べたものである。これを見て各問いに答えなさい。

- (1) 次の①、②の各問いに答えなさい。

[A] わたしは、推古天皇を助け、有力な豪族を抑えて、天皇中心の政治にしていきました。また、中国に遣隋使を派遣して外国の文化を取り入れ、仏教を広めたので、日本最初の仏教文化が生まれました。

- ① Aさんが、家柄だけでなく、能力で人材を選ぶと同時に、有力豪族の勢力を抑えるためにつくった制度を何といいますか。
- ② Aさんのころに生まれた仏教文化を何といいますか。

- (2) 次の①、②の各問いに答えなさい。

[B] わたしは、仏教によって国を治めるため、各国に国分寺・国分尼寺を建てた。都にもそれらの中心となる寺を建て、大仏をつくらせた。

- ① Bさんが、全国の国分寺・国分尼寺の中心として奈良に建てた寺として適当なものをア～エから1つ選び、記号を書きなさい。
- ア 延暦寺 イ 法隆寺 ウ 東大寺 エ 石山本願寺
- ② Bさんの時代に書かれた文学作品として、適当なものをア～エから1つ選び、記号を書きなさい。
- ア 古今和歌集 イ 古事記伝 ウ 枕草子 エ 万葉集

- (3) 次の①、②の各問いに答えなさい。

[C] わたしの一族は、天皇の親戚となることで権力をにぎり、天皇のかわりに政治をおこなった。特にわたしは、4人の娘を天皇にとつがせたので、わたしと息子のとき、一族の絶頂期をむかえた。わたしの祖先は、大化の改新で活躍した。

- ① Cさんは天皇ではないが、天皇の代わりに政治を行った。そのような政治のしくみを何といいますか。ア～エから1つ選び、記号を書きなさい。
- ア 摂関政治 イ 民主政治 ウ 執権政治 エ 院政
- ② Cさんの息子が、宇治に建てた阿彌陀堂を何といいますか。

(4) 次の①, ②の各問いに答えなさい。

[D] わたしは、鎌倉幕府を倒そうとして、一度は隠岐に流されたが、有力な武士の協力を得て、鎌倉幕府を倒し「建武の新政」をおこなった。しかし、その後、都を追われたが、それでも、あきらめず、南朝をたてて北朝と争った。

① Dさんが、鎌倉幕府を倒すときには協力してくれたが、結局、彼を追いやった武士は誰ですか。ア～エから1つ選び、記号を書きなさい。

ア 今川義元 イ 足利尊氏 ウ 明智光秀 エ 北条泰時

② Dさんのたてた南朝はどこを拠点としましたか。ア～エから1つ選び、記号を書きなさい。

ア 飛鳥 イ 室町 ウ 大津 エ 吉野

(5) 次の①, ②の各問いに答えなさい。

[E] わたしは、室町幕府の8代将軍。(a)1467年から将軍のあとつぎ問題をきっかけに京都で11年間も続いた乱をさけて、京都の東山に別荘をつくった。1489年、(b)東山文化の代表的建築物である銀閣(慈照寺)を建てた。

① 下線部 (a) の乱を何とよめるか書きなさい。

② 下線部 (b) の慈照寺にある東求堂の建築様式を何とよめますか。ア～エから1つ選び、記号を書きなさい。

ア 校倉造 イ 書院造 ウ 寝殿造 エ 武家造

(6) 次の①, ②の各問いに答えなさい。

[F] わたしは、尾張の農民出身の大名である。織田信長を裏切った明智光秀を討ち取ったのち、他の有力者をおさえて1590年に全国統一を完成した。そして、関白、太政大臣となった。太閤検地や刀狩もおこなった。また、朝鮮に出兵したがこれは失敗した。

① Fさんが、検地や刀狩をした目的は何ですか。最も適当なものをア～エから1つ選び、記号を書きなさい。

ア 楽市楽座 イ 兵農分離 ウ 地租改正 エ 農地改革

② Fさんは朝鮮に出兵したが失敗した。このとき朝鮮の水軍を率いてたびたび日本軍を破る活躍をした朝鮮の将軍は誰ですか。ア～エから1つ選び、記号を書きなさい。

ア 李舜臣 イ 尚泰 ウ 李參平 エ アテルイ

(7) 次の①, ②の各問いに答えなさい。

[G] わたしは、江戸幕府の8代将軍で、幕府の財政難に対する改革を行った。質素・儉約をすすめ、目安箱において庶民の意見を集めた。年貢の増収に力を入れたので、米将軍ともよばれた。

① Gさんが制定したものととして適当なものを、ア～エから1つ選び、記号を書きなさい。

ア 公事方御定書 イ 武家諸法度 ウ 御成敗式目 エ 生類憐みの令

② Gさんの行った改革を何とよみますか。ア～エから1つ選び、記号を書きなさい。

ア 天保の改革 イ 田沼の政治 ウ 寛政の改革 エ 享保の改革

4 次の略年表を見て、各問いに答えなさい。

年代	できごと
1854	日米和親条約を結ぶ I ① 版籍奉還が行われる ② 大政奉還が行われる ③ 戊辰戦争が始まる
1871	日清修好条規を結ぶ II ① 解放令が出される ② 徴兵令が出される ③ 学制が公布される
1876	(a) 日朝修好条規を結ぶ
1889	(b) 大日本帝国憲法を公布する
1894	(c) 日清戦争が始まる
1904	(d) 日露戦争が始まる
1910	(e) 韓国を併合する
1914	第一次世界大戦が始まる
1915	(f) 二十一カ条の要求を出す ↓A
1920	国際連盟が成立する ↓B
1931	満州事変が起こる ↓C
1939	第二次世界大戦が始まる
1950	(g) 朝鮮戦争が始まる
1951	(h) サンフランシスコ平和条約を結ぶ ↓D
1965	日韓基本条約を結ぶ ↓E
1972	(i) 日中国交が正常化する(日中共同声明) ↓F
1978	日中平和友好条約を結ぶ

(1) 年表中I・IIの□の①～③を古い順に正しく並べたものを、ア～カからそれぞれ1つずつ選び、記号を書きなさい。

ア ①→②→③ イ ①→③→② ウ ②→①→③
エ ②→③→① オ ③→①→② カ ③→②→①

(2) 下線部(a)を締結するきっかけとなった事件を、ア～エから1つ選び、記号を書きなさい。

ア 義和団事件 イ 江華島事件 ウ 盧溝橋事件 エ 柳条湖事件

(3) 下線部(b)について、どこの国の憲法を参考に作成されたか。国名を書きなさい。

(4) 下線部(c)のころ、文学界ではロマン主義が主流となった。ロマン主義の作家を、ア～エから1つ選び、記号を書きなさい。

ア 芥川龍之介 イ 樋口一葉 ウ 平塚らいてう エ 夏目漱石

(5) 下線部(d)について、キリスト教の立場から日露戦争に反対した人物を、ア～エから1つ選び、記号を書きなさい。

ア 幸徳秋水 イ 夏目漱石 ウ 内村鑑三 エ 与謝野晶子

(6) 下線部(e)の際に、日本が韓国に設置した機関の名前を、ア～エから1つ選び、記号を書きなさい。

ア 朝鮮総督府 イ 朝鮮神宮 ウ 韓国公使館 エ 韓国統監府

(7) 下線部(f)について、要求の内容として適当なものを、ア～エから1つ選び、記号を書きなさい。

ア 山東省のドイツ権益の継承
イ 香港の租借権
ウ 台湾の租借期間の延長
エ 賠償金2億両

(8) 下線部(g)のころのできごととして適当でないものを、ア～エから1つ選び、記号を書きなさい。

- ア GHQの指令により、1951年、自衛隊が設置された。
- イ 日本は西側陣営に組み込まれた。
- ウ 軍需物資の調達が行われたため、日本は特需景気となった。
- エ 日本本土や沖縄の米軍基地が使用された。

(9) 下線部(h)以前のできごととして適当なものを、ア～エから1つ選び、記号を書きなさい。

- ア 自由民主党が成立する。
- イ 国際連合に加盟する。
- ウ 教育基本法が公布される。
- エ 東海道新幹線が開通する。

(10) 下線部(i)と同じ年に起きたできごととして適当なものを、ア～エから1つ選び、記号を書きなさい。

- ア 環境庁設置
- イ 沖縄返還
- ウ 東京オリンピック
- エ 安保闘争

(11) 下の①～③のできごとが起こった時期を、年表中のA～Dからそれぞれ選び、記号を書きなさい。

- ① 第一次石油危機
- ② 世界恐慌
- ③ 日本国内でテレビ放送が始まる

5 下の表は日本国憲法の各章の見出しを書き出したものである。表を見て、各問いに答えなさい。

(1) (A) にあてはまる適当な言葉を選ばせよ。
ア～エから1つ選び、記号を書きなさい。

- ア 武力の行使
- イ 国民主権
- ウ 基本的人権の尊重
- エ 戦争の放棄

(2) 下線部①について、日本国憲法に定められている天皇の国事行為として適当でないものをア～エから1つ選び、記号を書きなさい。

- ア 憲法改正、法律、政令及び条約を公布すること。
- イ 国会を召集すること。
- ウ 衆議院を解散すること。
- エ 内閣総理大臣を指名すること。

(3) 下線部②について、①、②の各問いに答えなさい。

① 日本国憲法では国民の権利の限界を公共の福祉という言葉で表しているが、公共の福祉による人権の制限として、適当でないものをア～エから1つ選び、記号を書きなさい。

- ア 企業の不公正な取引の禁止
- イ 社員のストライキの禁止
- ウ 選挙運動の制限
- エ 伝染病による隔離

② 国民の権利では、社会権についても保障しているが、その一つである日本国憲法第25条の条文として適当なものをア～エから1つ選び、記号を書きなさい。

- ア 「すべて国民は、法律の定めるところにより、その能力に応じて、ひとしく教育を受ける権利を有する。」
- イ 「すべて国民は、勤労の権利を有し、義務を負う。」
- ウ 「すべて国民は、健康で文化的な最低限度の生活を営む権利を有する。」
- エ 「すべて国民は、法の下に平等であつて、人種、信条、性別、社会的身分又は門地により、政治的、経済的又は社会的関係において、差別されない。」

第1章	②天皇
第2章	(A)
第3章	①国民の権利及び義務
第4章	②国会
第5章	③内閣
第6章	④司法
第7章	財政
第8章	①地方自治
第9章	改正
第10章	最高法規
第11章	補則

(4) 下線部⑥について、①～③の各問いに答えなさい。

- ① 比例代表選挙において、定数が6人のとき、各政党の得票数が下の表のようになったとすると、各政党の当選者数として適当なものを、表中のア～エから1つ選び、記号を書きなさい。

政党名	A党	B党	C党	D党
得票数	7500票	6000票	4200票	900票
ア	4人	2人	0人	0人
イ	3人	1人	1人	1人
ウ	3人	2人	1人	0人
エ	2人	2人	1人	1人

- ② 次の表は衆議院と参議院のしくみを比較したものである。表中の(A)・(B)・(C)の組み合わせとして適当なものをア～エから1つ選び、記号を書きなさい。

ア (A:480 B:6 C:25)
 イ (A:460 B:6 C:20)
 ウ (A:460 B:5 C:20)
 エ (A:480 B:5 C:25)

	衆議院	参議院
議員数	(A)人	242人
任期	4年	(B)年 (3年ごとに半数ずつ改選)
選挙権	20歳以上	20歳以上
被選挙権	(C)歳以上	30歳以上
解散	ある	ない

- ③ 衆議院だけに認められているものをア～エから1つ選び、記号を書きなさい。

ア 内閣不信任決議 イ 法律案の議決 ウ 条約の承認 エ 予算の議決

(5) 下線部⑥について、①、②の各問いに答えなさい。

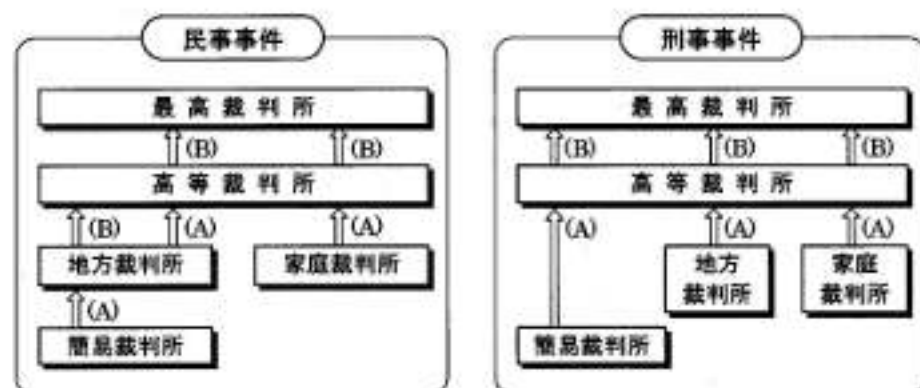
- ① 下の文章は日本国憲法第69条である。文中の()に適切な語句を書きなさい。

「内閣は、衆議院で不信任の決議案を可決し、又は信任の決議案を否決したときは、10日以内に衆議院が解散されない限り、()をしなければならない。」

- ② 内閣が国会の信任に基づいてつくられ、国会に対して連帯して責任を負う制度を何といいますか。

- (6) 下線部⑥について、下の図は日本の裁判のしくみである三審制をあらわしている。図中(A)・(B)にはそれぞれ同じ語句が入るが、(A)にあてはまる語句をア～エから1つ選び、記号を書きなさい。

ア 控訴 イ 起訴 ウ 上告 エ 審理



(7) 下線部⑥について、①、②の各問いに答えなさい。

- ① 1999年に地方分権一括法が制定され、地方分権への新しい動きがでてきている。その取り組みとして適当でないものをア～エから1つ選び、記号を書きなさい。

ア 国庫補助金の廃止・縮小 イ 市町村合併
 ウ 税源の一部を国から地方に移す エ 構造改革特区の廃止

- ② 市民の立場に立ち、行政に対する苦情や救済の申し立てを処理したり、行政を監視したりする人を何といいますか。

